



# 円と球 9

● 球の中心・半径・直径とは

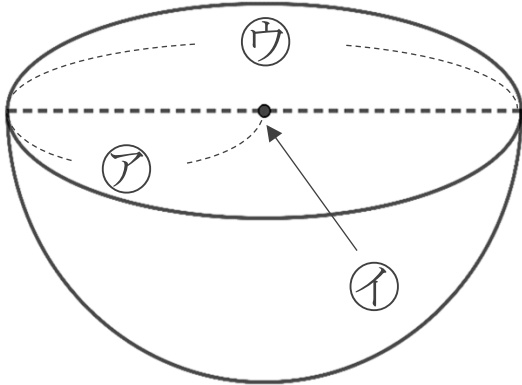


日にち：            月            日

名まえ \_\_\_\_\_

・ 次の図は球を半分に切った図です。㉠～㉣の名前を答えましょう。

①



㉠ :

\_\_\_\_\_

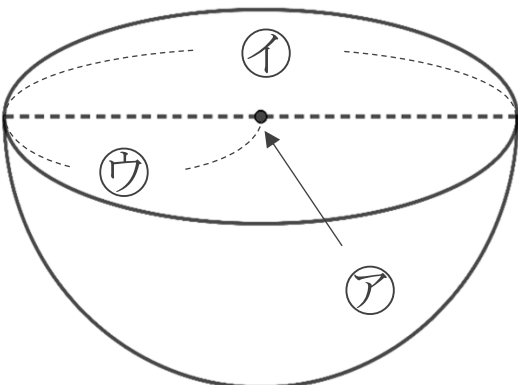
㉡ :

\_\_\_\_\_

㉣ :

\_\_\_\_\_

②



㉠ :

\_\_\_\_\_

㉡ :

\_\_\_\_\_

㉣ :

\_\_\_\_\_





# 円と球 9

● 球の中心・半径・直径とは

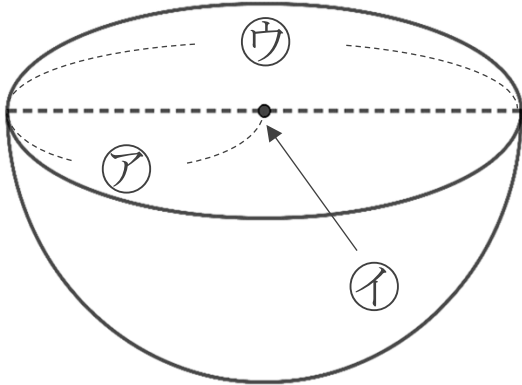


日にち：            月            日

名まえ \_\_\_\_\_

・ 次の図は球を半分に切った図です。㉠～㉣の名前を答えましょう。

①

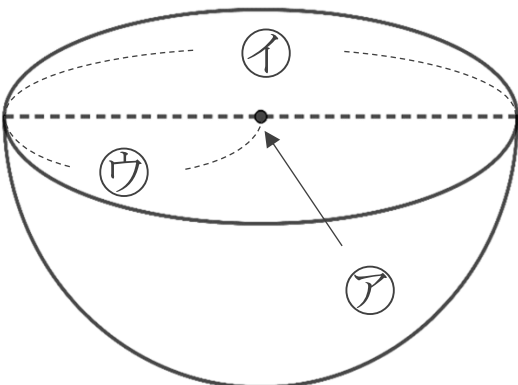


㉠ : 半径

㉡ : 中心

㉢ : 直径

②



㉠ : 中心

㉡ : 直径

㉢ : 半径

