



ぼうグラフと表 3

● 表をぼうグラフに表そう



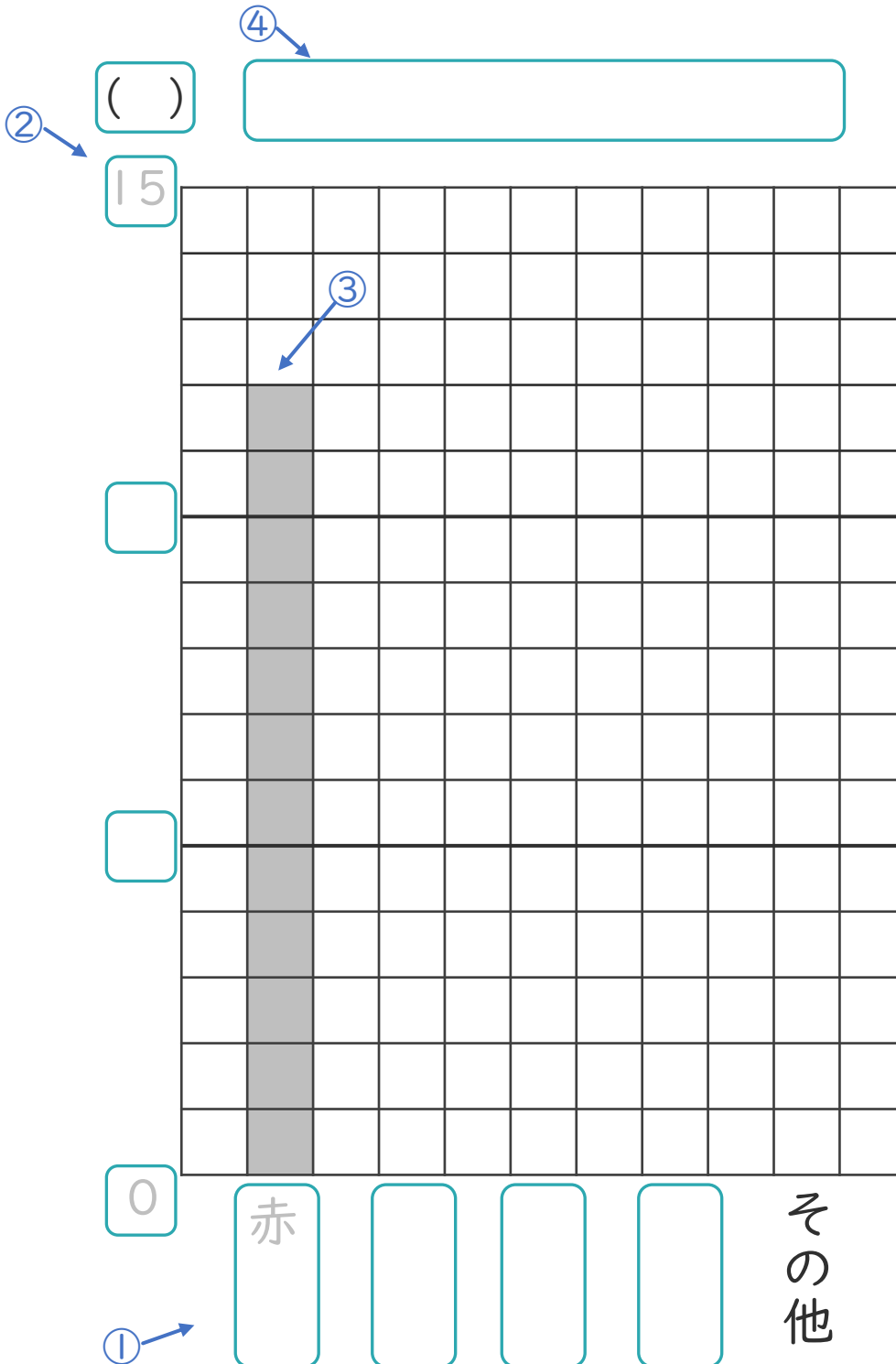
日にち： 月 日

名まえ _____

・ 次の表を、ぼうグラフに表しましょう。(うすい字はなぞりましょう。)

すきな色調べ


色	赤	青	黄色	緑	その他	合計
人数(人)	12	7	6	3	5	33



① 横のじくに
しゅるいを書く。

② たてのじくの
メモリの数と
たんいを書く。

いちばん多い数が
表せるようにしよう！



③ 数にあわせて
ぼうを書く。

④ 表題を書く。





ぼうグラフと表 3

● 表をぼうグラフに表そう



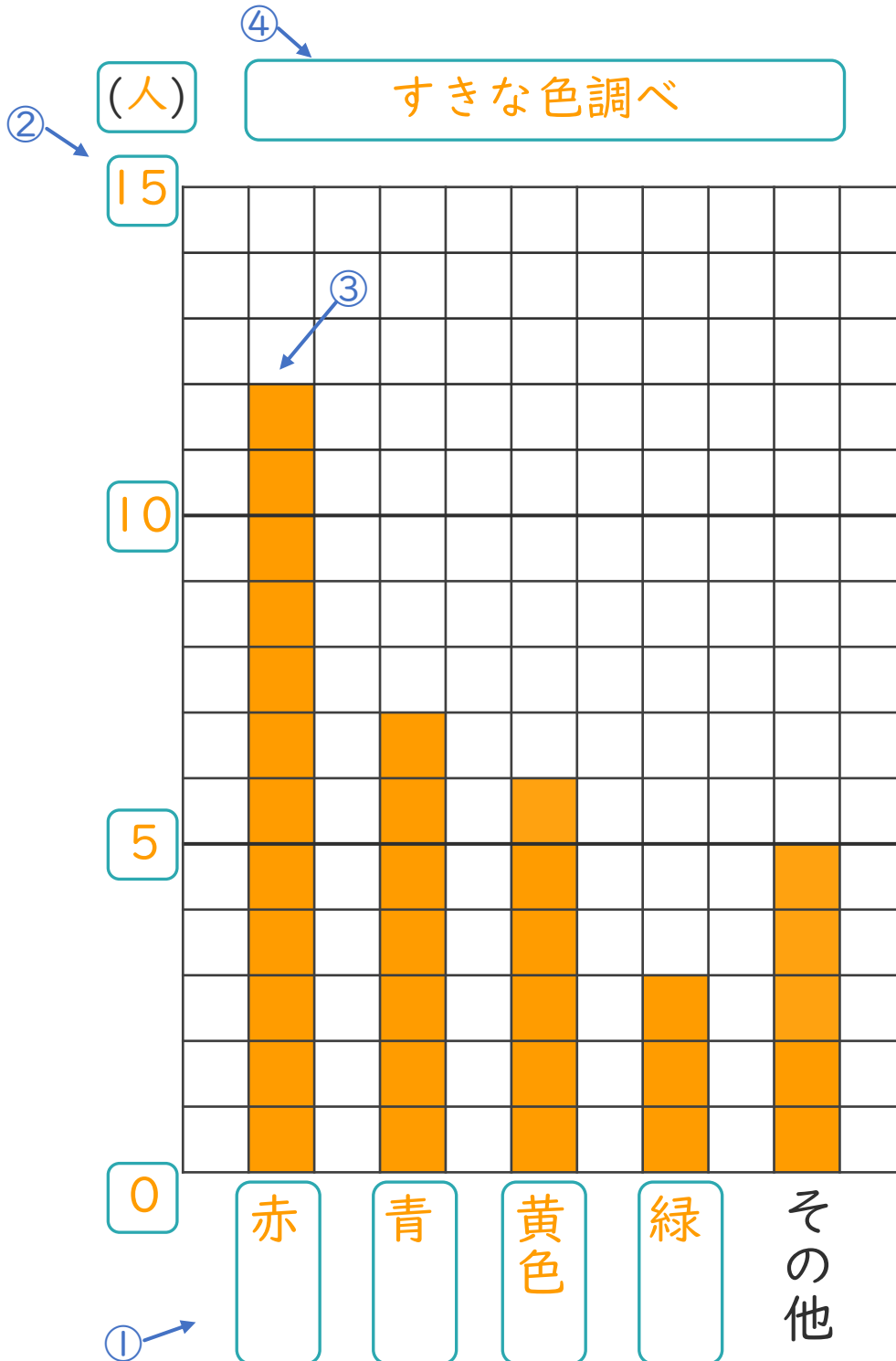
日にち： 月 日

名まえ _____

・ 次の表を、ぼうグラフに表しましょう。(うすい字はなぞりましょう。)

すきな色調べ

色	赤	青	黄色	緑	その他	合計
人数(人)	12	7	6	3	5	33



① 横のじくにしゅるいを書く。

② たてのじくのメモリの数とたんいを書く。

いちばん多い数が表せるようにしよう!

③ 数にあわせてぼうを書く。

④ 表題を書く。

