



# 三角形と角 10

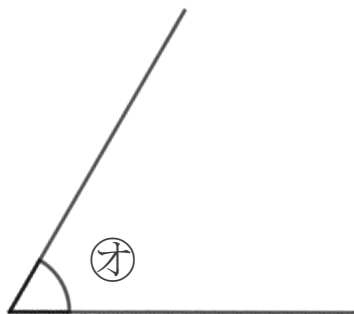
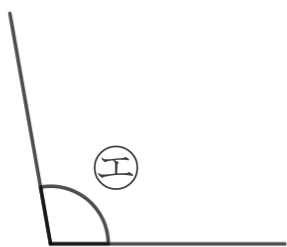
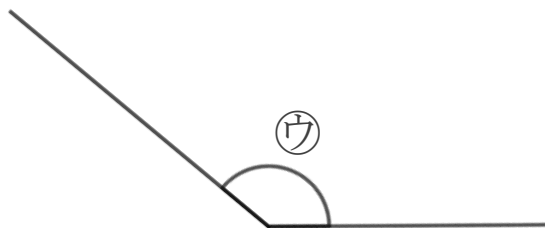
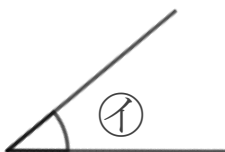
● 角を大きい  
じゅんにならべる



日にち：            月            日

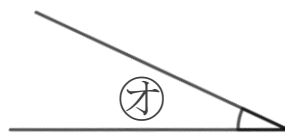
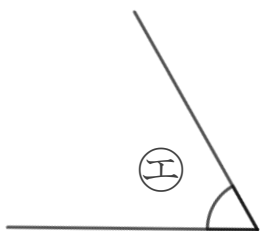
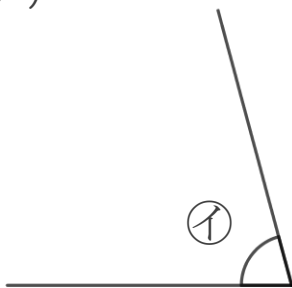
名まえ \_\_\_\_\_

1 次の角の大きさをくらべて、大きいじゅんに書きましょう。  
(うすい字はなぞりましょう。)



答え：            →            →    Ⓐ    →    ⓐ    →

2 次の角の大きさをくらべて、小さいじゅんに書きましょう。  
(うすい字はなぞりましょう。)



答え：            →    ⓐ    →    ⓑ    →            →





# 三角形と角 10

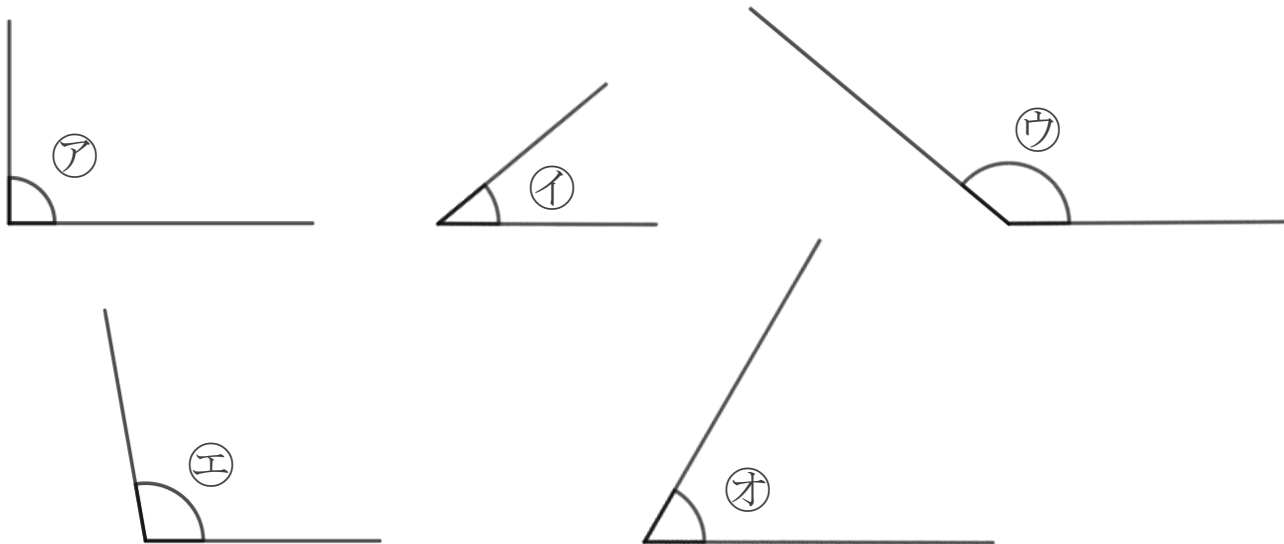
● 角を大きい  
じゅんにならべる



日にち：            月            日

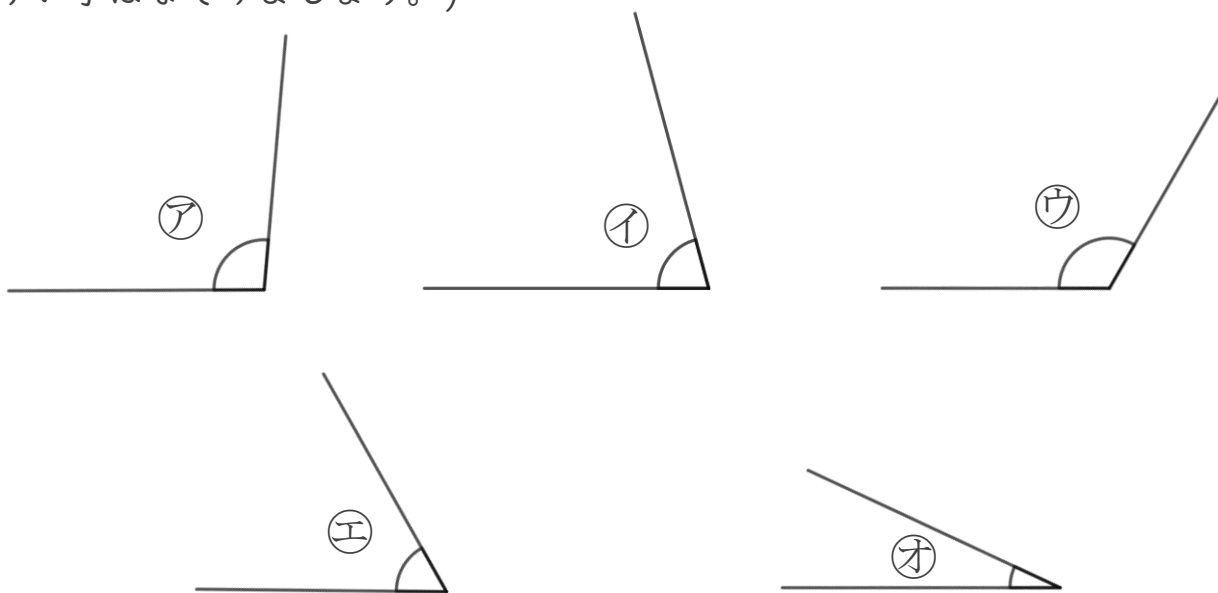
名まえ \_\_\_\_\_

1 次の角の大きさをくらべて、大きいじゅんに書きましょう。  
(うすい字はなぞりましょう。)



答え：    ウ → エ → ア → オ → イ

2 次の角の大きさをくらべて、小さいじゅんに書きましょう。  
(うすい字はなぞりましょう。)



答え：    オ → エ → イ → ア → ウ

