



# 分数 8

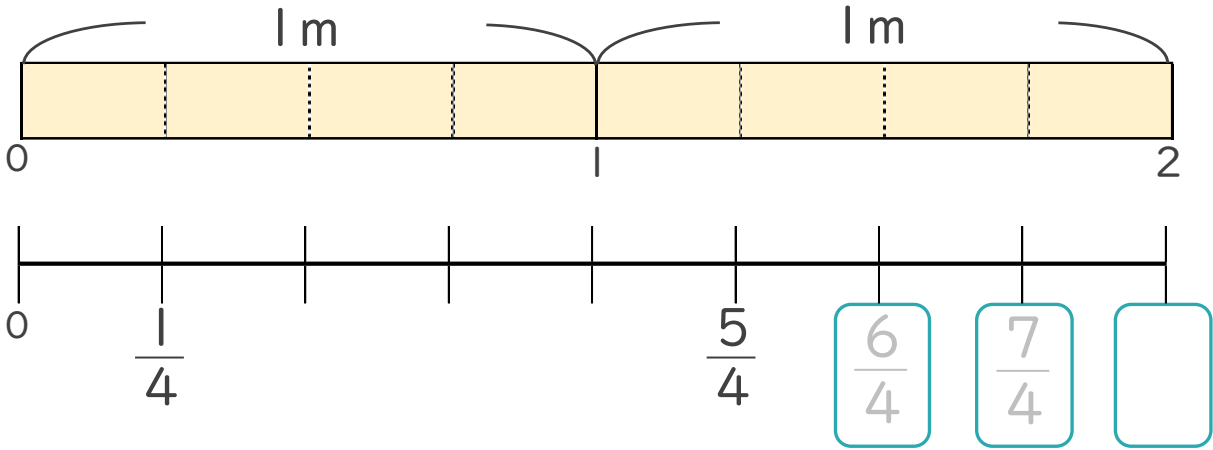
● 1より大きい分数を数直線に表す



日にち： 月 日

名まえ \_\_\_\_\_

1 次の図を見て答えましょう。(うすい字はなぞりましょう。)



①  にあてはまる分数を書きましょう。

②  $\frac{1}{4}$  mの8こ分の長さは何mですか。

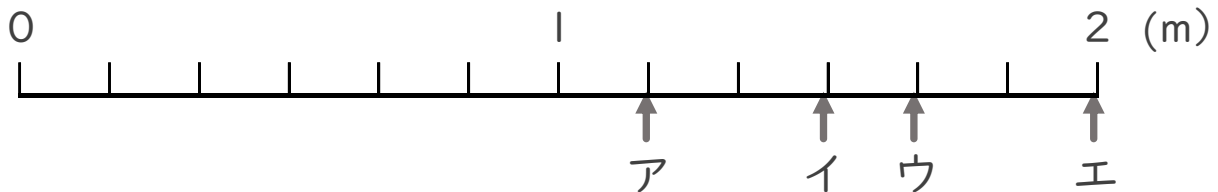
整数 2 m

分数と整数でそれぞれ表しましょう。

分数          m

2 ア～エのめもりが表す長さは、それぞれ何mですか。

(うすい字はなぞりましょう。)



答え ア  $\frac{7}{6}$  m イ  $\frac{9}{6}$  m ウ          m エ          m



# 分数 8

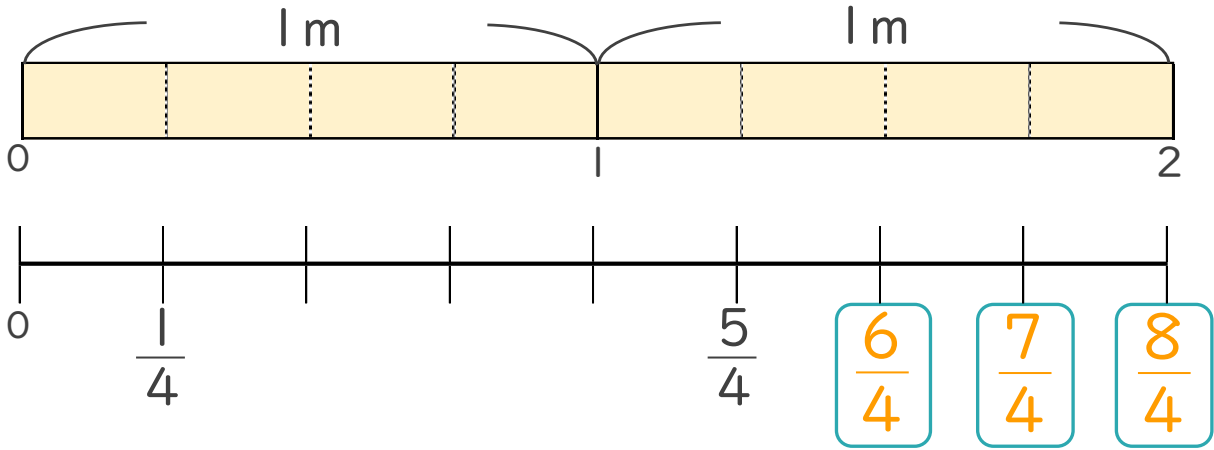
● 1より大きい分数を数直線に表す



日にち： 月 日

名まえ \_\_\_\_\_

1 次の図を見て答えましょう。(うすい字はなぞりましょう。)



①  にあてはまる分数を書きましょう。

②  $\frac{1}{4}$  mの8こ分の長さは何mですか。

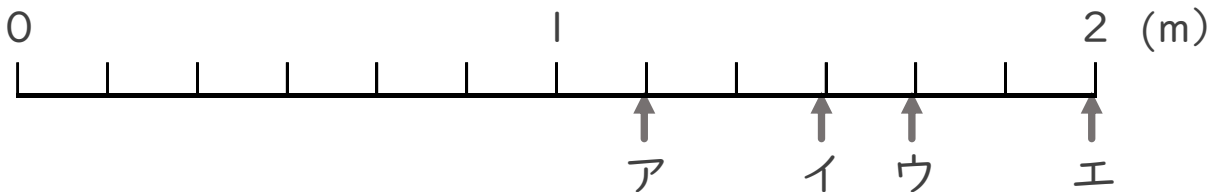
整数 2 m

分数と整数でそれぞれ表しましょう。

分数  $\frac{8}{4}$  m

2 ア～エのめもりが表す長さは、それぞれ何mですか。

(うすい字はなぞりましょう。)



答え    ア  $\frac{7}{6}$  m    イ  $\frac{9}{6}$  m    ウ  $\frac{10}{6}$  m    エ 2 m

