



大きい数のしくみ 9

● 1万の位の数直線



日にち： 月 日

名まえ _____

すうちよくせん

1 下ののような数の線を数直線といいます。

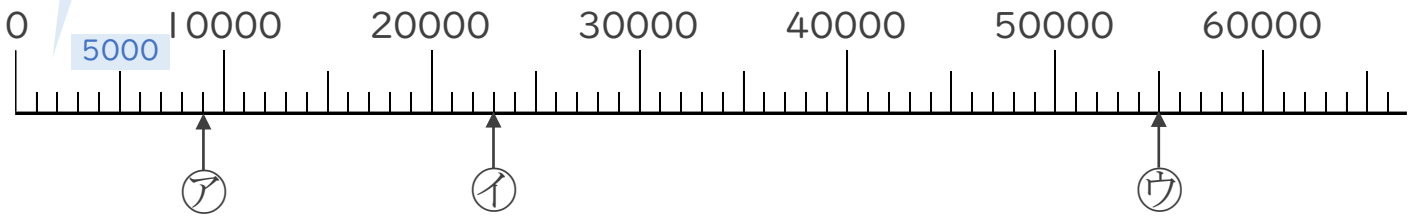
ア、イ、ウのめもりが表している数を [] に書きましょう。

(うすい字はなぞりましょう。)

☆いちばん小さい1めもりはいくつ？

0と10000の間が10こに分かれているから、

いちばん小さい1めもりは だね！

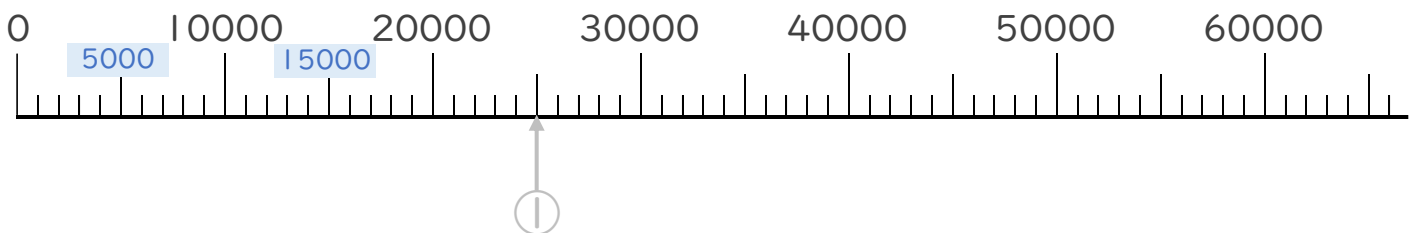


[9000] [] []

2 次の数を表すめもりに、↑ を書きましょう。

(うすい字はなぞりましょう。)

① 25000 ② 51000





大きい数のしくみ 9

● 1万の位の数直線



日にち： 月 日

名まえ _____

すうちよくせん

1 下ののような数の線を数直線といいます。

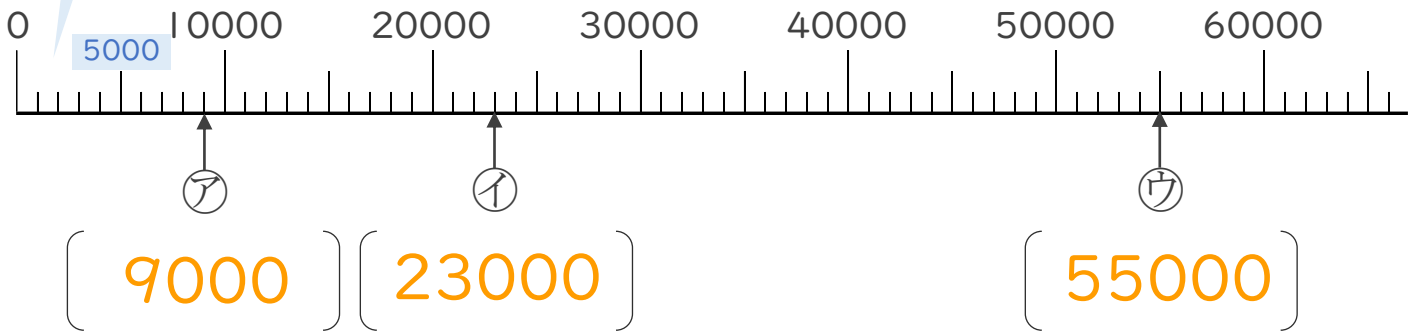
ア、イ、ウのめもりが表している数を〔 〕に書きましょう。

(うすい字はなぞりましょう。)

☆いちばん小さい1めもりはいくつ？

0と10000の間が10こに分かれているから、

いちばん小さい1めもりは **1000** だね！



2 次の数を表すめもりに、↑を書きましょう。

(うすい字はなぞりましょう。)

- ① 25000 ② 51000

