



かけ算の筆算 22

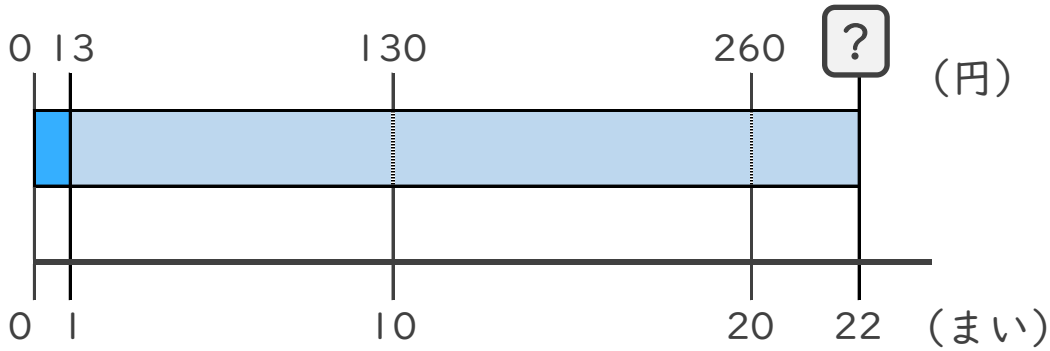
◎ 2けた × 2けたの
かけ算とは



日にち： 月 日

名まえ _____

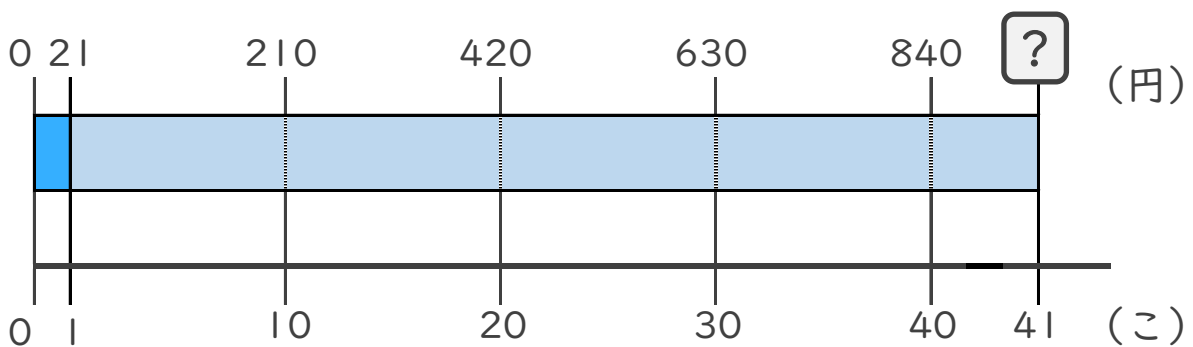
- 1 1まい13円の工作用紙を22まい買います。
代金をもとめる式を作りましょう。



1まいのねだん × 買う数

式：

- 2 1こ21円のおかしを41こ買います。
代金をもとめる式を作りましょう。



1このねだん × 買う数

式：





かけ算の筆算 22

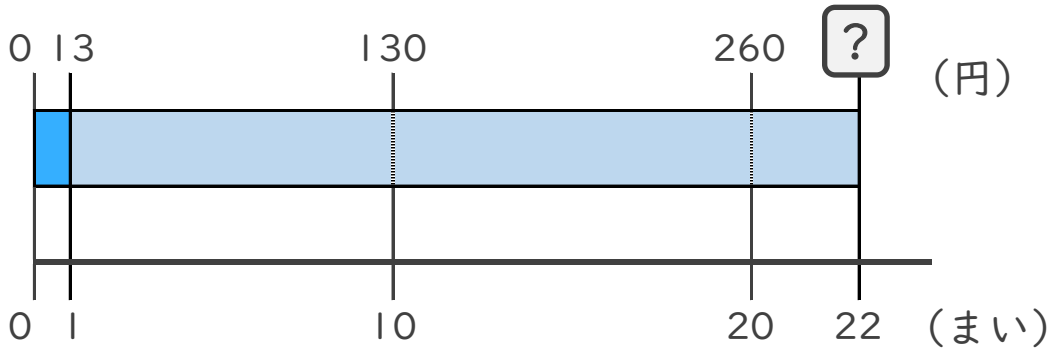
◎ 2けた × 2けたの
かけ算とは



日にち： 月 日

名まえ _____

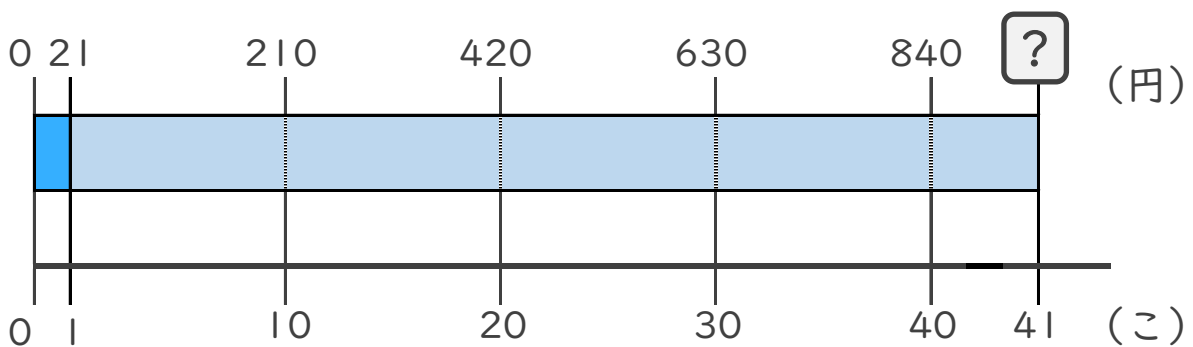
- 1 1まい13円の工作用紙を22まい買います。
代金をもとめる式を作りましょう。



1まいのねだん × 買う数

式： 13×22

- 2 1こ21円のおかしを41こ買います。
代金をもとめる式を作りましょう。



1このねだん × 買う数

式： 21×41

