



重さのたんいと はかりかた 7

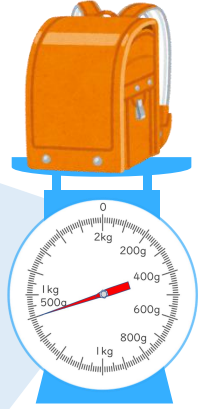
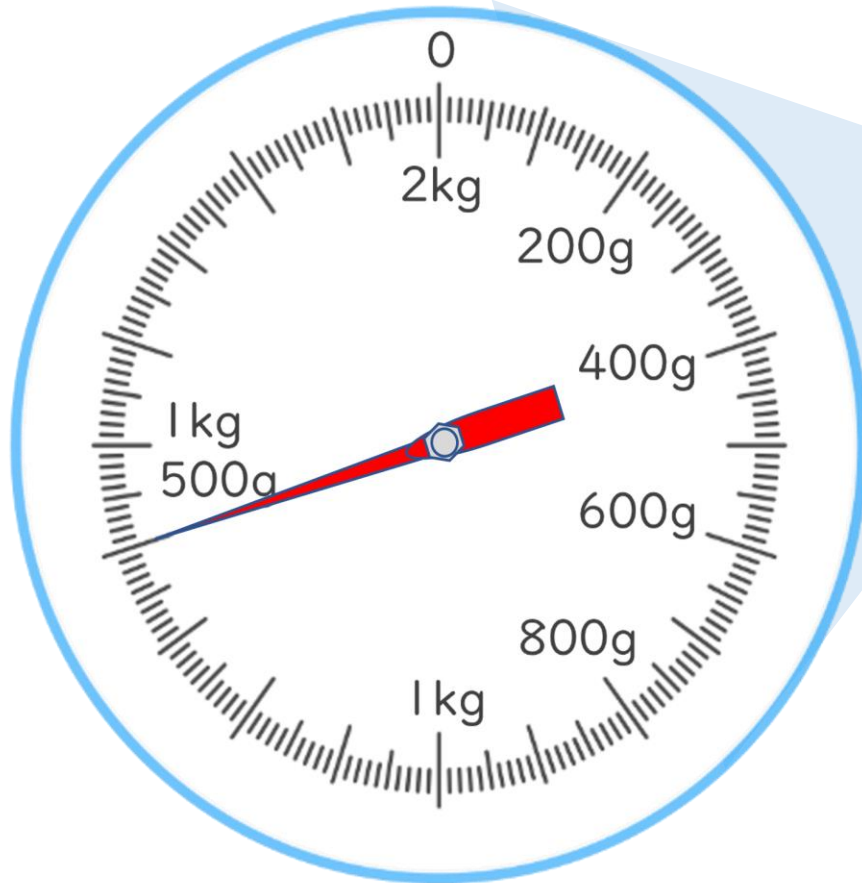
● はかりの目もり
(2キログラムまで)



日にち： 月 日

名まえ _____

・ランドセルの重さを、調べましょう。



① このはかりでは、何kgまではかれますか。

答え： _____

② いちばん小さい1めもりは、何gを表していますか。

答え： _____

③ ランドセルの重さは何kg 何gですか。

答え： _____



重さのたんいと はかりかた 7

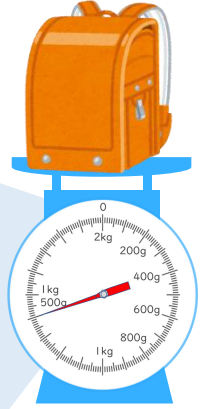
● はかりの目もり
(2キログラムまで)



日にち： 月 日

名まえ _____

・ランドセルの重さを、調べましょう。



① このはかりでは、何kg まではかれますか。

答え： 2 kg

② いちばん小さい1めもりは、何g を表していますか。

答え： 10 g

③ ランドセルの重さは何 kg 何g ですか。

答え： 1 kg 400 g

