



大きい数のわり算 3

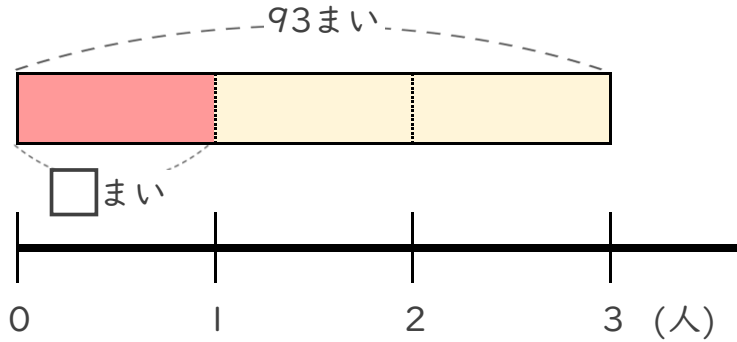
◎ 39まいのおり紙を
3人でわける



日にち： 月 日

名まえ _____

- ・ 93まいのおり紙を、3人で同じ数ずつ分けます。
1人分は何まいになりますか。
(うすい字はなぞりましょう。)

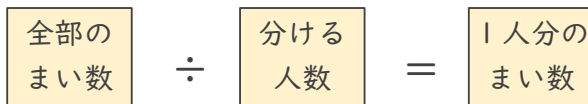
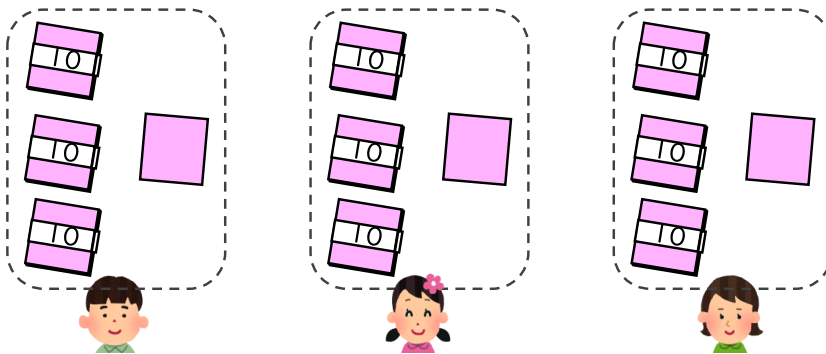


① 計算の式を書きましょう。



式 _____

② 下の図をもとに計算してみましょう。



式: ÷ =

93

93 3

↓

$90 \div 3 = 30$

$3 \div 3 = 1$

あわせて ?

答え _____



大きい数のわり算 3

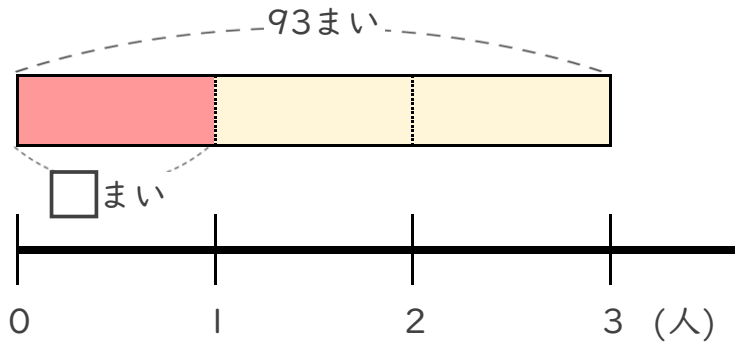
◎ 39まいのおり紙を
3人でわける



日にち： 月 日

名まえ _____

- ・ 93まいのおり紙を、3人で同じ数ずつ分けます。
1人分は何まいになりますか。
(うすい字はなぞりましょう。)

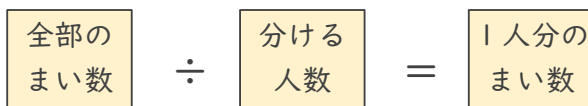
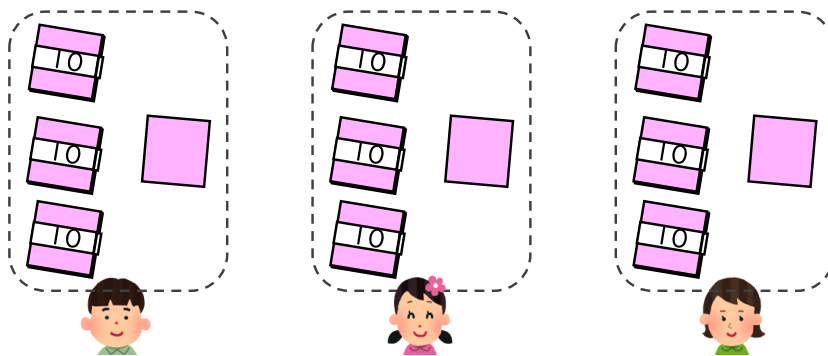


① 計算の式を書きましょう。



式 $93 \div 3$

② 下の図をもとに計算してみましょう。



式: $93 \div 3 = 31$

93

93 3

↓

$90 \div 3 = 30$

$3 \div 3 = 1$

あわせて ?

答え 31 まい