

大きい数のしくみ 16

● 4けたの数をつくろう




日にち： 月 日

名まえ _____

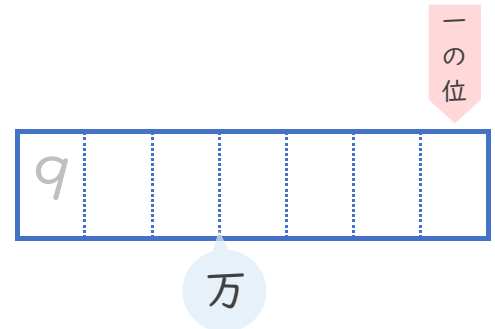
- 0から9までの10まいのカードから7まいを使って、7けたの整数を作ります。

(うすい字はなぞりましょう。)



- ① いちばん大きい数を作しましょう。


大きい数から順に7まい
ならべると...



- ② いちばん小さい数を作しましょう。

小さい順にならべると...

でも7けたの整数で
百万の位に0は表せないから...





大きい数のしくみ 16

◎ 4けたの数をつくろう



日にち： 月 日

名まえ _____

- 0から9までの10まいのカードから7まいを使って、7けたの整数を作ります。

(うすい字はなぞりましょう。)



- ① いちばん大きい数を作しましょう。

大きい数から順に7まい
ならべると...



万

- ② いちばん小さい数を作しましょう。

小さい順にならべると...

でも7けたの整数で
百万の位に0は表せないから...



万