



大きい数のわり算 I

◎ 60まいの色紙を
3人でわける

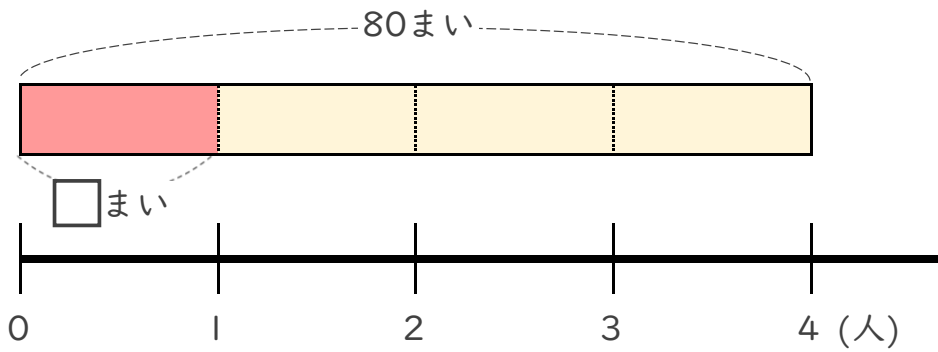


日にち： 月 日

名まえ _____

- ・ 80まいの色紙を、4人で同じ数ずつ分けます。
1人分は何まいになりますか。

(うすい字はなぞりましょう。)

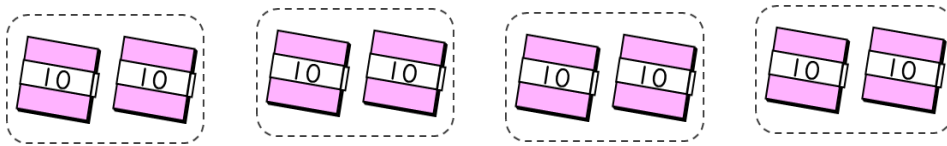


- ① 計算の式を書きましょう。

全部の まい数	÷	分ける 人数
------------	---	-----------

式 80 ÷ 4

- ② 下の図をもとに計算してみましょう。



$$8 \div 4 = 2$$

$$80 \div 4 = \boxed{?}$$

全部の まい数	÷	分ける 人数	=	1人分の まい数
------------	---	-----------	---	-------------

式: 80 ÷ 4 =

答え _____



大きい数のわり算 I

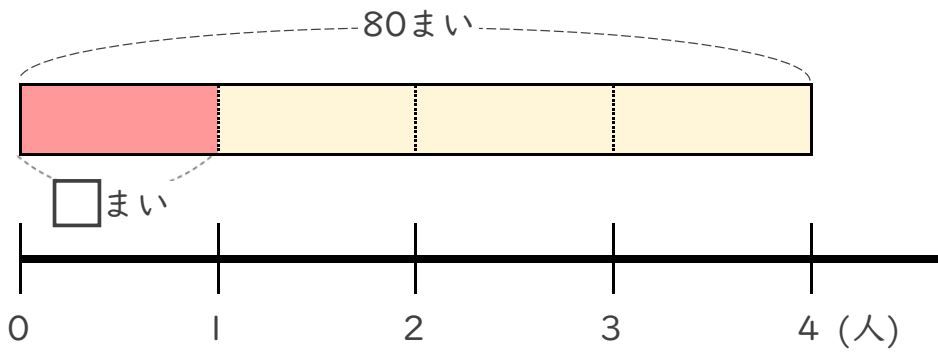
◎ 60まいの色紙を
3人でわける



日にち： 月 日

名まえ _____

- ・ 80まいの色紙を、4人で同じ数ずつ分けます。
1人分は何まいになりますか。
(うすい字はなぞりましょう。)

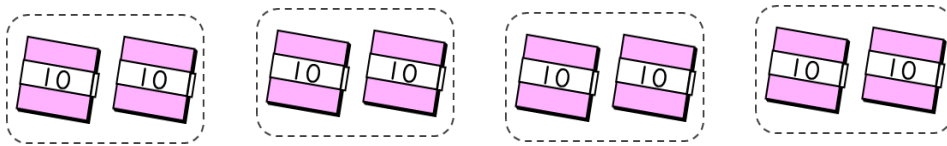


① 計算の式を書きましょう。

全部の まい数	÷	分ける 人数
------------	---	-----------

式 $80 \div 4$

② 下の図をもとに計算してみましょう。



$$8 \div 4 = 2$$

$$80 \div 4 = \boxed{?}$$

全部の まい数	÷	分ける 人数	=	1人分の まい数
------------	---	-----------	---	-------------

式: $80 \div 4 = 20$

答え 20 まい