



かけ算の筆算⑨

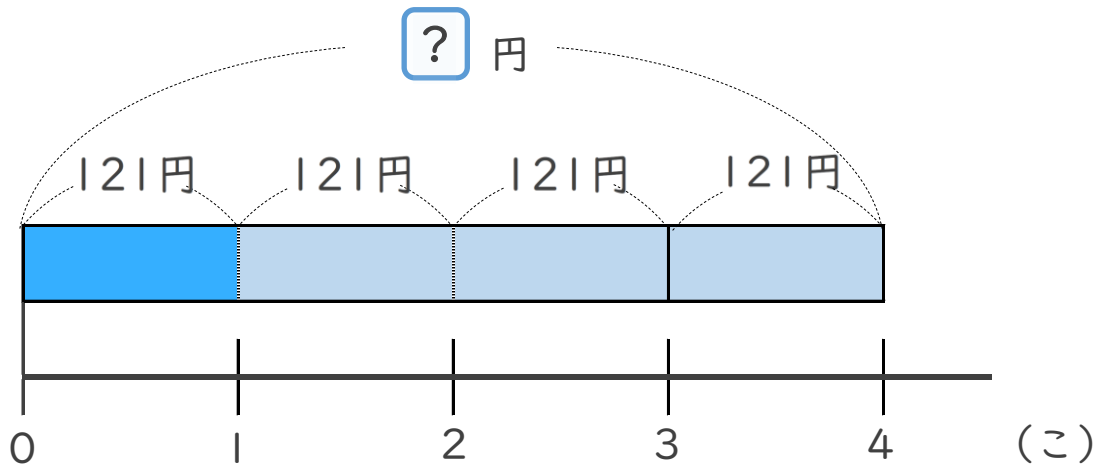
● 321 円のテープを
3m 買った代金



日にち： 月 日

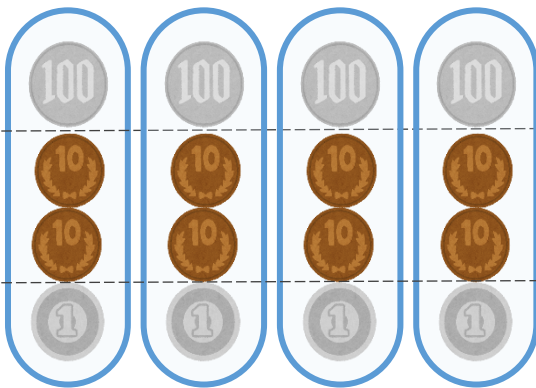
名まえ _____

1 このねだんが121円のおかしを、4こ買います。
代金はいくらですか。(うすい字はなぞりましょう)



式： $121 \times 4 =$

答え： _____



$100 \times 4 = 400$

$20 \times 4 = 80$

$1 \times 4 = 4$

あわせて



かけ算の筆算 9

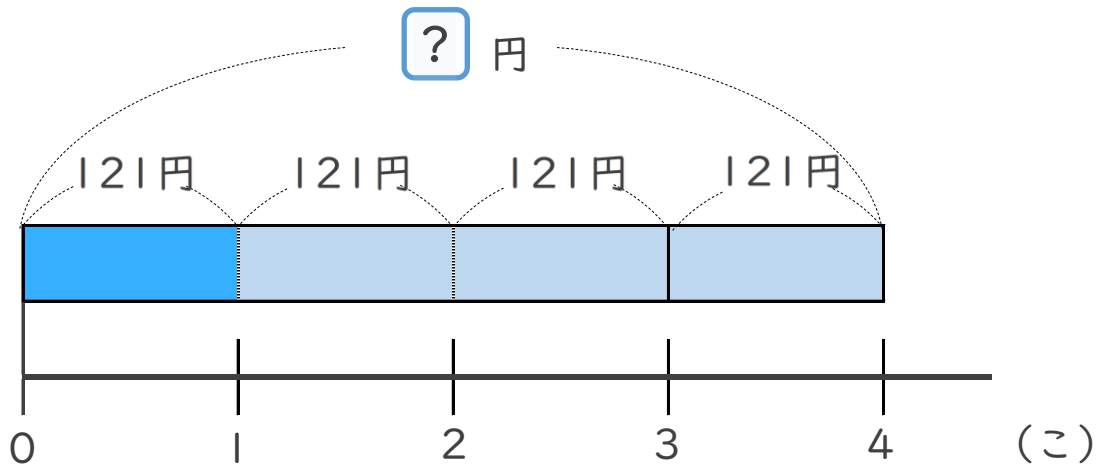
● 321 円のテープを
3m 買った代金



日にち： 月 日

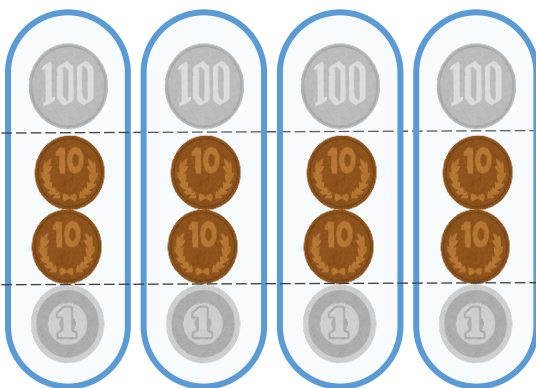
名まえ _____

1 このねだんが121円のおかしを、4こ買います。
代金はいくらですか。(うすい字はなぞりましょう)



式： $121 \times 4 = 484$

答え：484 円



$100 \times 4 = 400$

$20 \times 4 = 80$

$1 \times 4 = 4$

あわせて

484

