



# □を使った式 6

● □ × 数, 数 × □ の  
□ をもとめる計算

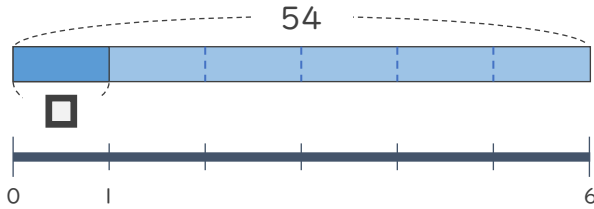


日にち：            月            日

名まえ \_\_\_\_\_

・ □ にあてはまる数をもとめましょう。(うすい字はなぞりましょう。)

①

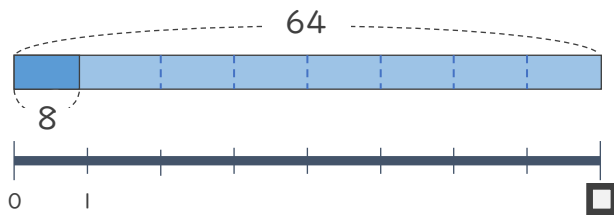


$$\square \times 6 = 54$$

$$\square = 54 \div 6$$

$$\square =$$

②



$$8 \times \square = 64$$

$$\square =$$

$$\square =$$



# □を使った式 6

● □ × 数, 数 × □ の  
□ をもとめる計算

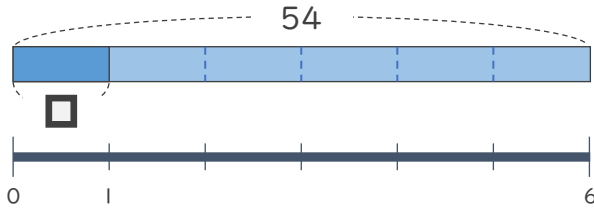


日にち：            月            日

名まえ \_\_\_\_\_

・ □ にあてはまる数をもとめましょう。(うすい字はなぞりましょう。)

①

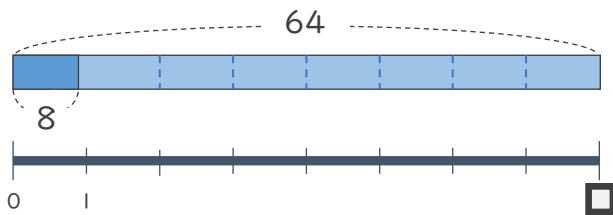


$$\square \times 6 = 54$$

$$\square = 54 \div 6$$

$$\square = 9$$

②



$$8 \times \square = 64$$

$$\square = 64 \div 8$$

$$\square = 8$$

