



## □を使った式 9

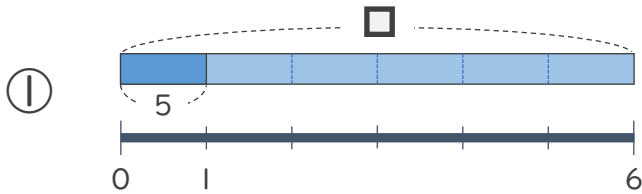
● □ ÷ 数の  
□ をもとめる計算



日にち：        月        日

名まえ \_\_\_\_\_

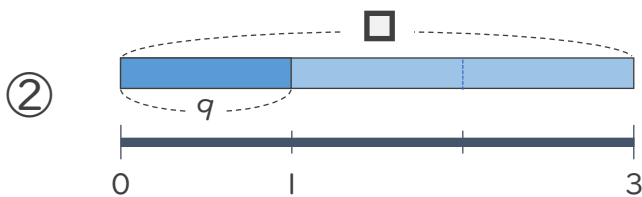
- にあてはまる数をもとめましょう。(うすい字はなぞりましょう)



$$\square \div 6 = 5$$

$$\square = 5 \times 6$$

$$\square =$$



$$\square \div 3 = 9$$

$$\square =$$

$$\square =$$





## □を使った式 9

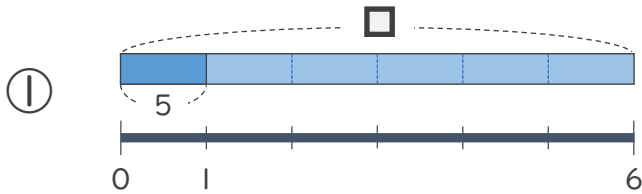
◎ □ ÷ 数の  
□ をもとめる計算



日にち：          月          日

名まえ \_\_\_\_\_

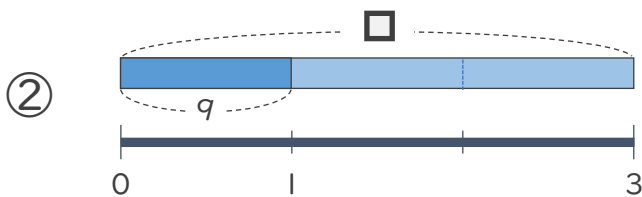
- にあてはまる数をもとめましょう。(うすい字はなぞりましょう)



$$\square \div 6 = 5$$

$$\square = 5 \times 6$$

$$\square = 30$$



$$\square \div 3 = 9$$

$$\square = 9 \times 3$$

$$\square = 27$$

