



## □を使った式 2

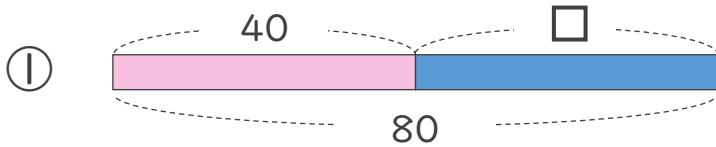
● □+数, 数+□ の  
□をもとめる計算



日にち：            月            日

名まえ \_\_\_\_\_

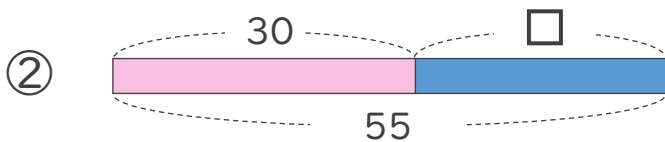
- にあてはまる数をもとめましょう。(うすい字はなぞりましょう)



$$40 + \square = 80$$

$$\square = 80 - 40$$

$$\square =$$



$$30 + \square = 55$$

$$\square =$$

$$\square =$$





## □を使った式 2

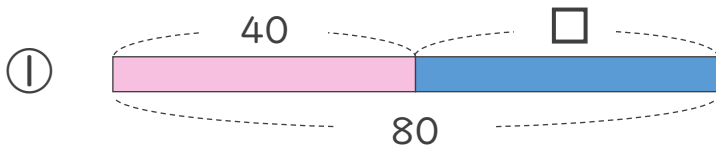
● □+数, 数+□ の  
□をもとめる計算



日にち：            月            日

名まえ \_\_\_\_\_

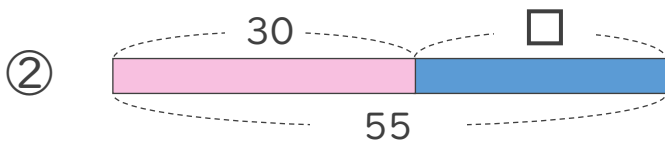
・ □にあてはまる数をもとめましょう。(うすい字はなぞりましょう)



$$40 + \square = 80$$

$$\square = 80 - 40$$

$$\square = 40$$



$$30 + \square = 55$$

$$\square = 55 - 30$$

$$\square = 25$$