



□を使った式 4

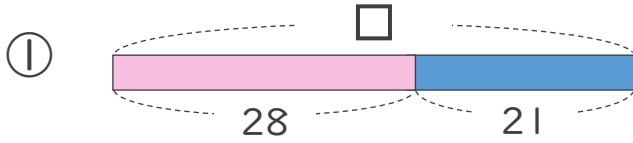
● □-数の□を
もとめる計算



日にち： 月 日

名まえ _____

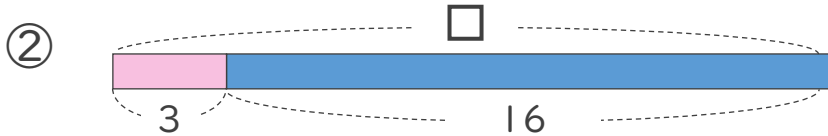
・ □にあてはまる数をもとめましょう。(うすい字はなぞりましょう。)



$$\square - 28 = 21$$

$$\square = 21 + 28$$

$$\square =$$



$$\square - 16 = 3$$

$$\square =$$

$$\square =$$



□を使った式 4

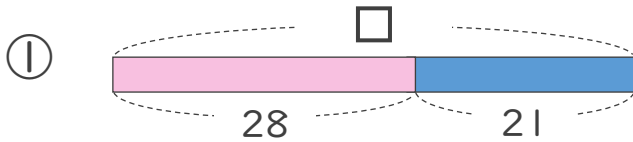
● □-数の□を
もとめる計算



日にち： 月 日

名まえ _____

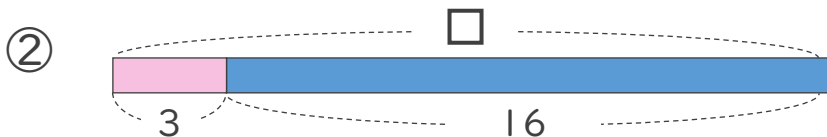
・ □にあてはまる数をもとめましょう。(うすい字はなぞりましょう。)



$$\square - 28 = 21$$

$$\square = 21 + 28$$

$$\square = 49$$



$$\square - 16 = 3$$

$$\square = 3 + 16$$

$$\square = 19$$

