



# □を使った式 4

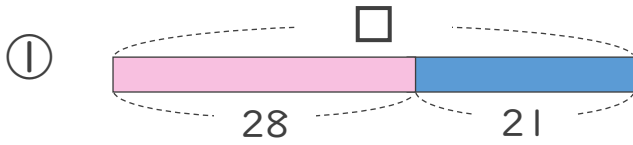
● □-数の□を  
もとめる計算



日にち：            月            日

名まえ \_\_\_\_\_

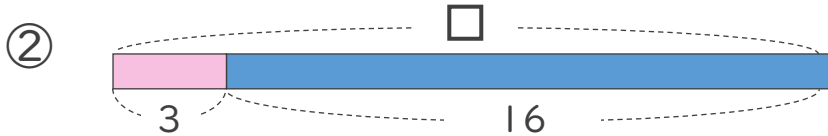
・ □にあてはまる数をもとめましょう。(うすい字はなぞりましょう。)



$$\square - 28 = 21$$

$$\square = 21 + 28$$

$$\square =$$



$$\square - 3 = 16$$

$$\square =$$

$$\square =$$





## □を使った式 4

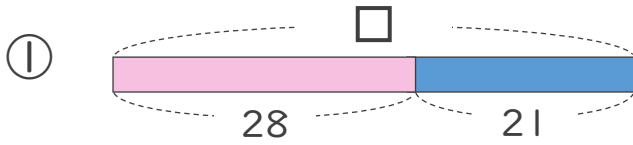
● □-数の□を  
もとめる計算



日にち：        月        日

名まえ \_\_\_\_\_

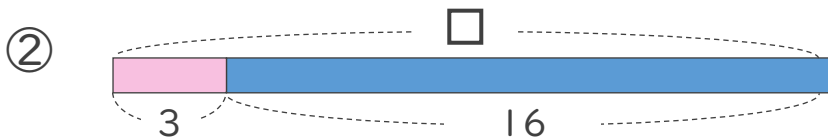
・ □にあてはまる数をもとめましょう。(うすい字はなぞりましょう。)



$$\square - 28 = 21$$

$$\square = 21 + 28$$

$$\square = 49$$



$$\square - 3 = 16$$

$$\square = 16 + 3$$

$$\square = 19$$

