



時こくと時間の  
もとめかた 10



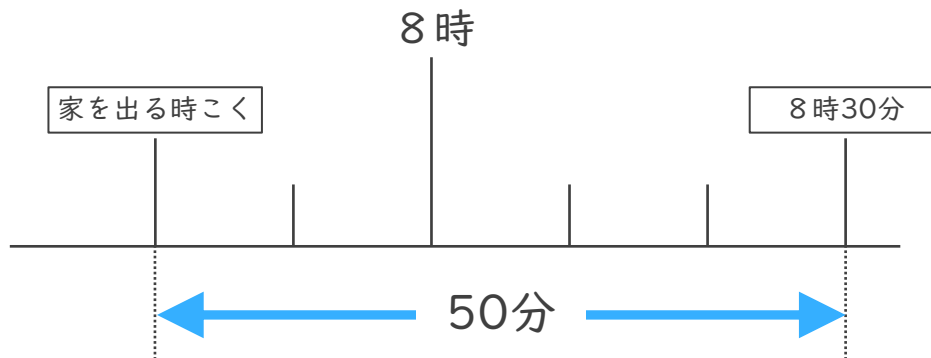
○分前の時こく (数直線)

日にち： 月 日

名まえ \_\_\_\_\_

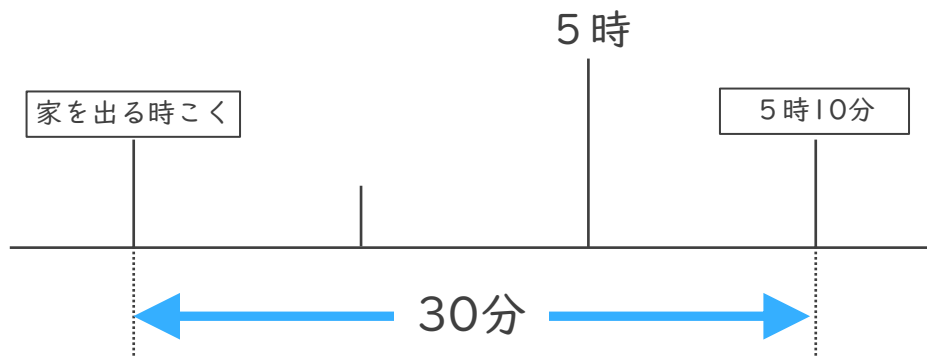
・ 次の問いに<sup>こた</sup>答えましょう。

- ① ゆうさんの家から学校まで50分かかります。8時30分までに学校に着くためには、おそくとも何時何分までに家を出なければならないでしょうか。



答え ( )

- ② みかさんの家から病院<sup>びょういん</sup>まで30分かかります。5時10分までに病院に着くためには、おそくとも何時何分までに家を出なければならないでしょうか。



答え ( )



時こくと時間の  
もとめかた 10

● ○分前の時こく (数直線)

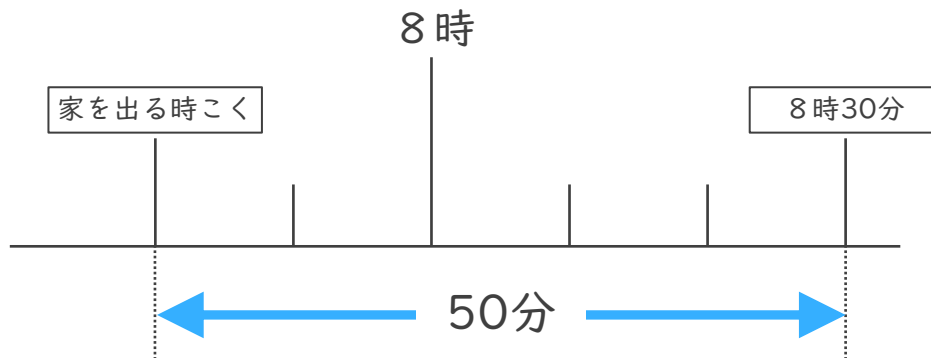


日にち：            月            日

名まえ \_\_\_\_\_

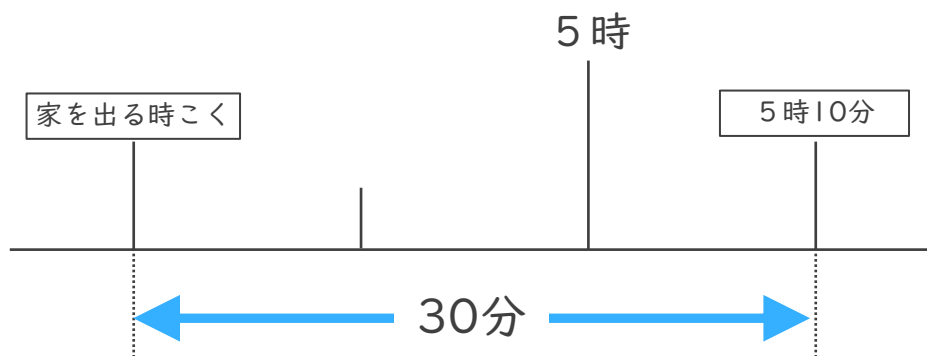
・ 次の問いに<sup>こた</sup>答えましょう。

- ① ゆうさんの家から学校まで50分かかります。8時30分までに学校に着くためには、おそくとも何時何分までに家を出なければならないでしょうか。



答え (            7時40分            )

- ② みかさんの家から病院<sup>びょういん</sup>まで30分かかります。5時10分までに病院に着くためには、おそくとも何時何分までに家を出なければならないでしょうか。



答え (            4時40分            )