



かけ算の筆算 18

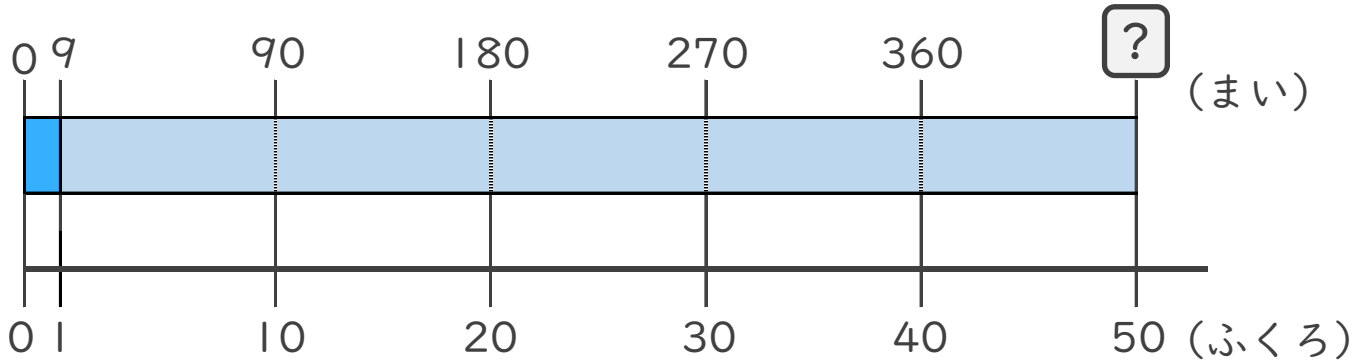
◎ 何十倍のかけ算とは



日にち： 月 日

名まえ _____

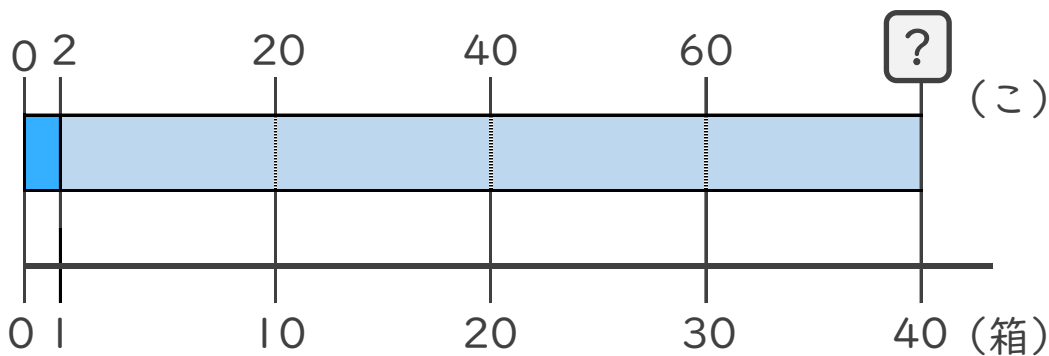
- 1 9まいずつ色紙が入っているふくろが、50ふくろあります。
色紙は全部で何まい ありますか。



式：

答え： _____

- 2 まんじゅうが2こずつ入った箱を、40箱をつくります。
まんじゅうは全部で何こ ありますか。



式：

答え： _____





かけ算の筆算 18

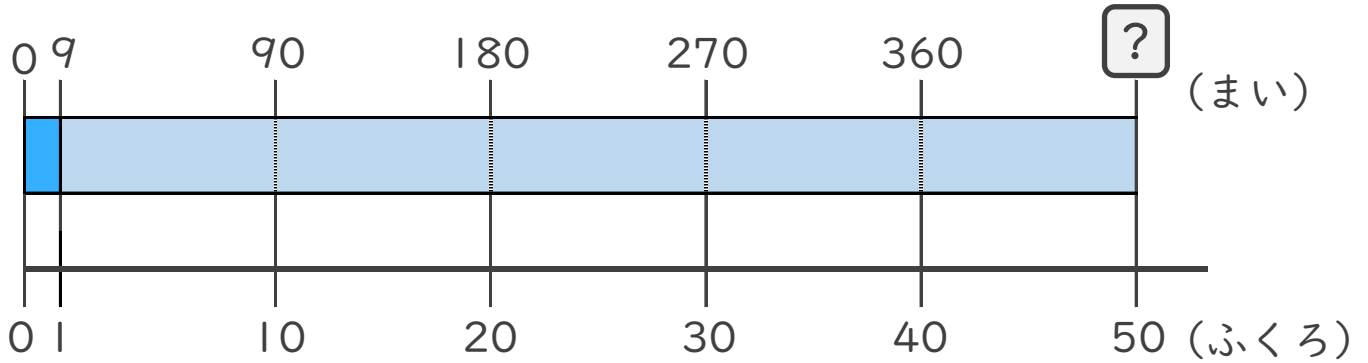
何十倍のかけ算とは



日にち： 月 日

名まえ _____

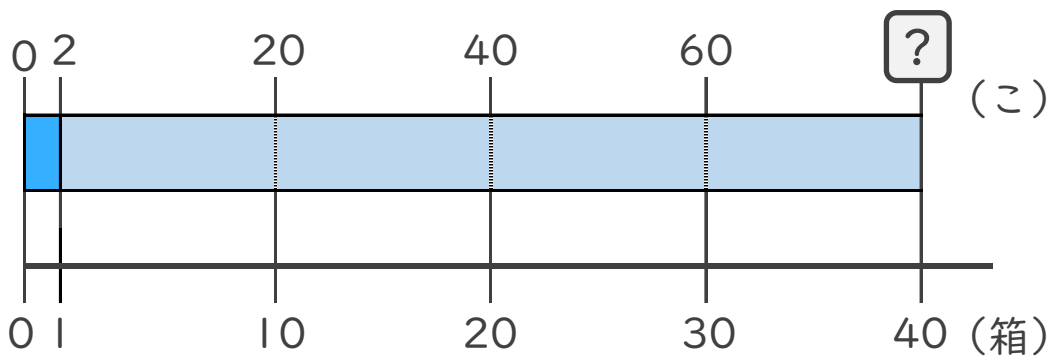
1 9まいずつ色紙が入っているふくろが、50ふくろあります。
色紙は全部で何まい ありますか。



$$\text{式： } 9 \times 50 = 450$$

答え：450まい

2 まんじゅうが2こずつ入った箱を、40箱をつくります。
まんじゅうは全部で何こ ありますか。



$$\text{式： } 2 \times 40 = 80$$

答え：80こ

