



時こくと時間の  
もとめかた 5

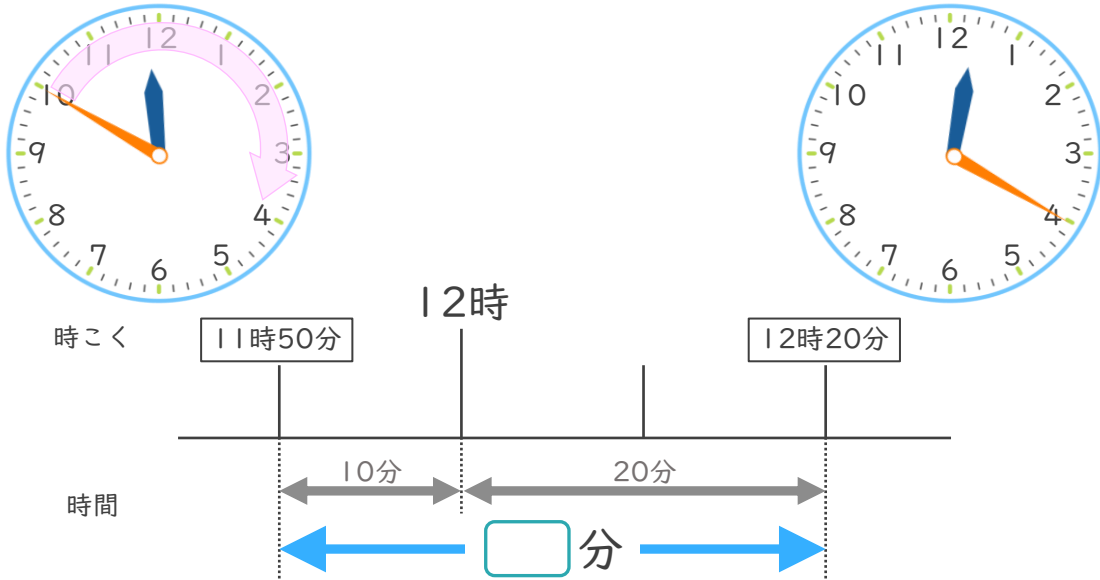
● かかった時間を  
もとめる (時計)



日にち： 月 日

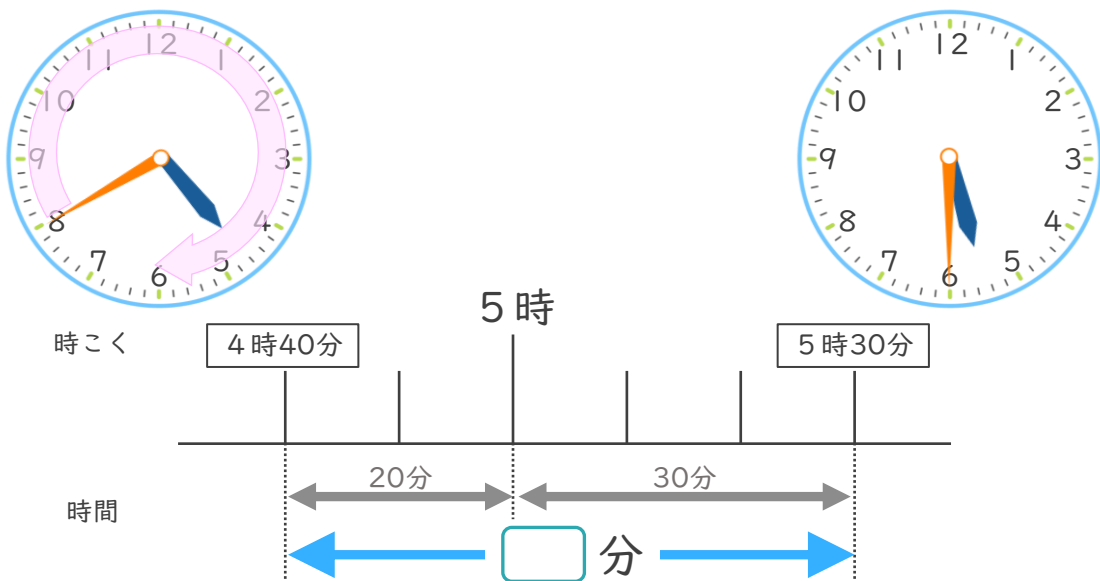
名まえ \_\_\_\_\_

- ① 本屋を11時50分に出て、公園に12時20分に着きました。本屋から公園まで、かかった時間は何分ですか。



答え ( )

- ② 駅を4時40分に出て、図書館に5時30分に着きました。駅から図書館まで、かかった時間は何分ですか。



答え ( )



時こくと時間の  
もとめかた 5

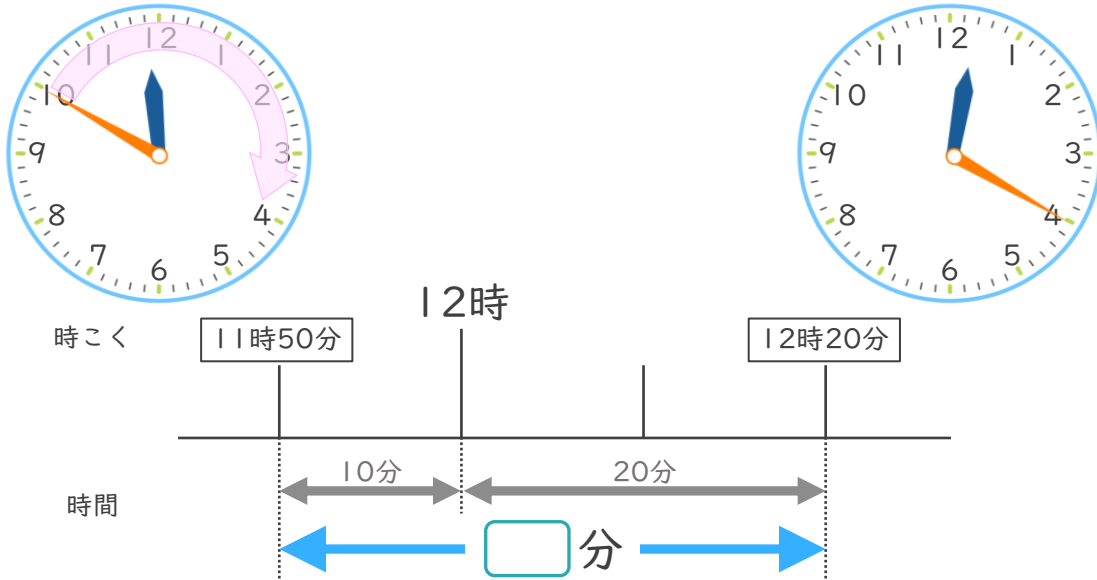
● かかった時間を  
もとめる (時計)



日にち：        月        日

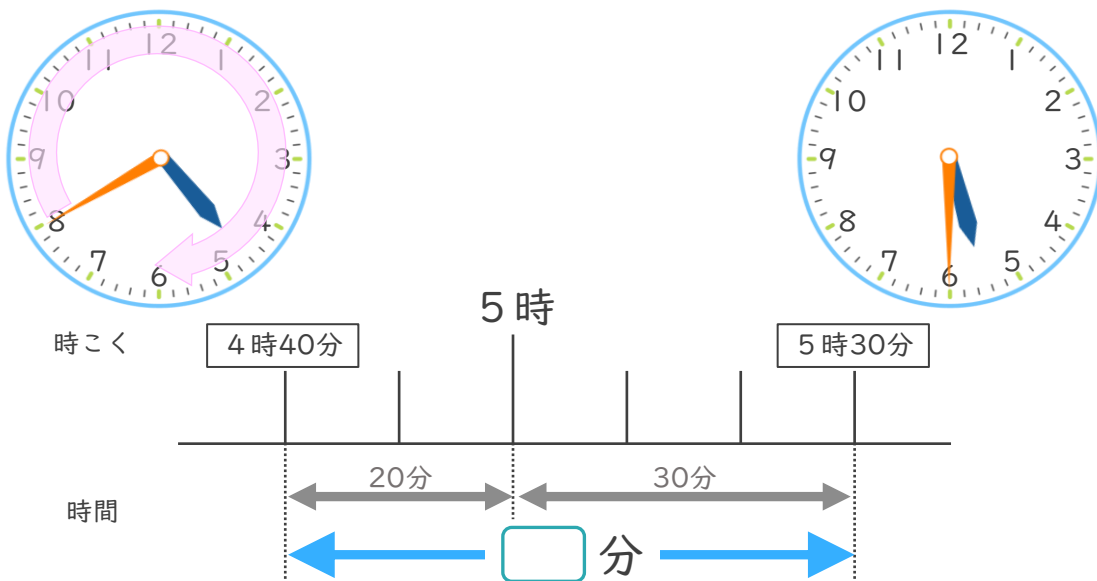
名まえ \_\_\_\_\_

- ① 本屋を11時50分に出て、公園に12時20分に着きました。本屋から公園まで、かかった時間は何分ですか。



答え (      30分      )

- ② 駅を4時40分に出て、図書館に5時30分に着きました。駅から図書館まで、かかった時間は何分ですか。



答え (      50分      )

