



かけ算 4


● かける数が
1小さくなると・・・



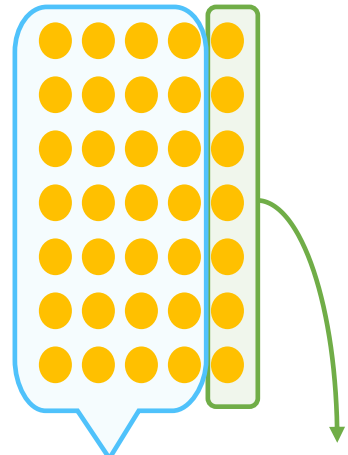
日にち： 月 日

名まえ _____

・ 下の図を見て、7のだんについて考えましょう。
(うすい字はなぞりましょう)



㊦ 7×5



㊧ $7 \times 4 + 7$

① 次の に数を書きましょう。

㊦ $7 \times \boxed{5} = 35$

㊧ $7 \times \boxed{\quad} + 7 = 35$

② ㊦ の式も ㊧ の式も答えが、35になります。
次の に数を書きましょう。

$$7 \times 5 = 7 \times 4 + \boxed{\quad}$$





かけ算 4


● かける数が
1小さくなると・・・




日にち： 月 日

名まえ _____

・ 下の図を見て、7のだんについて考えましょう。
(うすい字はなぞりましょう)



㊦ 7×5



㊧ $7 \times 4 + 7$

① 次の に数を書きましょう。

㊦ $7 \times \boxed{5} = 35$

㊧ $7 \times \boxed{4} + 7 = 35$

② ㊦ の式も ㊧ の式も答えが、35になります。

次の に数を書きましょう。

$$7 \times 5 = 7 \times 4 + \boxed{7}$$

