



ぼうグラフと表5

● ぼうグラフの
1めもりの大きさ

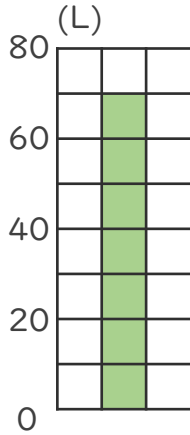


日にち： 月 日

名まえ _____

・ 次のぼうグラフで、1めもりが表している大きさと、
ぼうが表している大きさをもとめましょう。(うすい字は
なぞりましょう。)

①

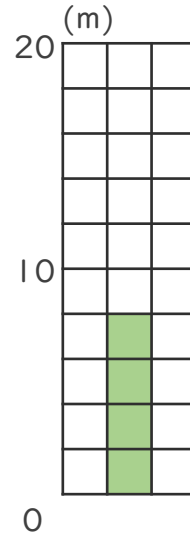


0と20の間を
2つに分けている。

1めもり [10L]

グラフ [70L]

③

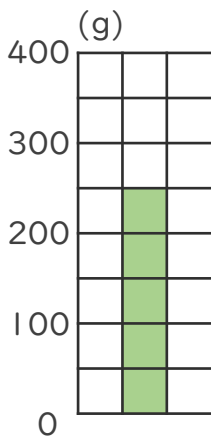


0と10の間を
5つに分けている。

1めもり [2m]

グラフ [8m]

②

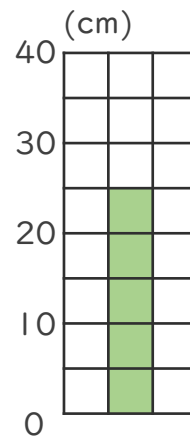


0と100の間を
2つに分けている。

1めもり [50g]

グラフ [250g]

④



0と10の間を
2つに分けている。

1めもり [5cm]

グラフ [25cm]

