



長いものの長さの はかり方と表し方 2

● まきじゃくへの書きこみ



日にち： 月 日

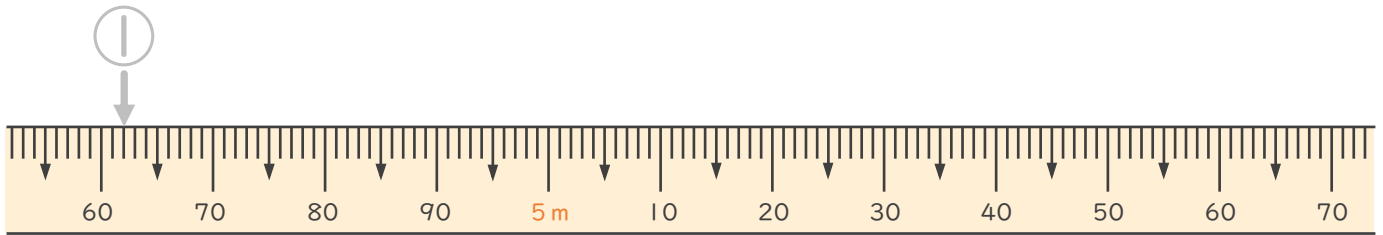
名まえ _____

1 次のまきじゃくで、①～③の長さ^{なが}を表す^{あらわ}メモりに ↓ をかきましょう。
(うすい字^じはなぞりましょう。)

① 4 m 6 2 cm

② 5 m 3 cm

③ 5 m 4 5 cm

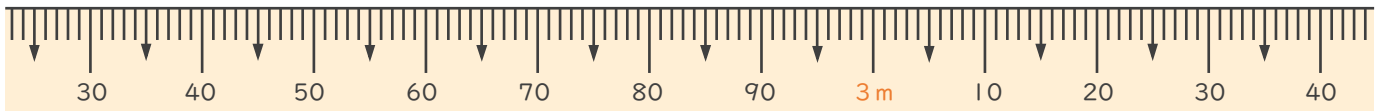


2 次のまきじゃくで、①～③の長さ^{なが}を表す^{あらわ}メモりに ↓ をかきましょう。

① 2 m 3 5 cm

② 2 m 9 6 cm

③ 3 m 1 5 cm





長いものの長さの はかり方と表し方 2

● まきじゃくへの書きこみ



日にち： 月 日

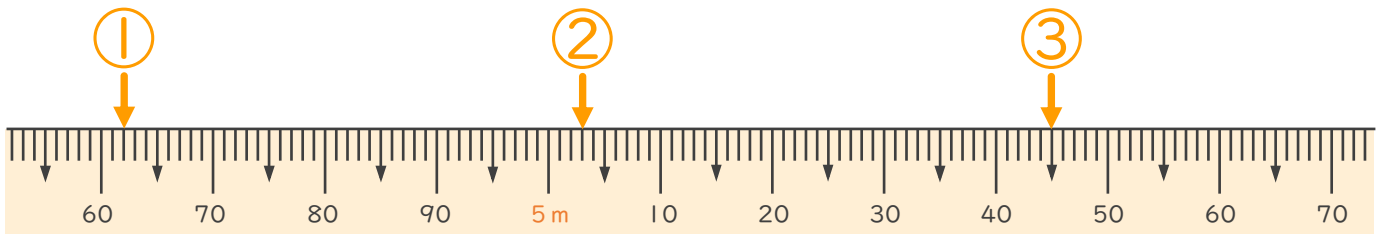
名まえ _____

1 次のまきじゃくで、①～③の長さ^{なが}を表す^{あらわ}メモりに ↓ をかきましょう。
(うすい字^じはなぞりましょう。)

① 4 m 6 2 cm

② 5 m 3 cm

③ 5 m 4 5 cm



2 次のまきじゃくで、①～③の長さ^{なが}を表す^{あらわ}メモりに ↓ をかきましょう。

① 2 m 3 5 cm

② 2 m 9 6 cm

③ 3 m 1 5 cm

