



三角形と角 00

◎ 三角定規で作る
三角形の形

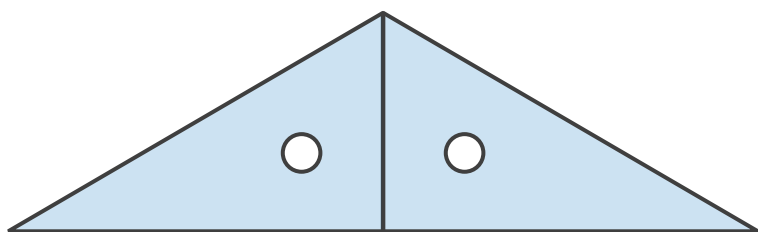


日にち： 月 日

名まえ _____

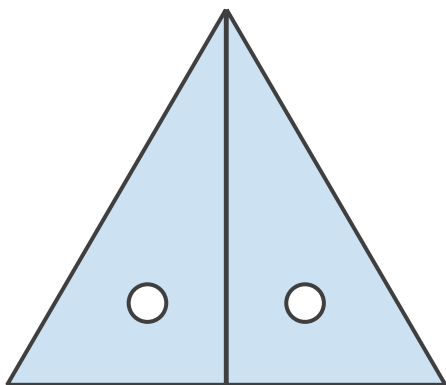
- ・ 次の図のように、三角じょうぎを2まいならべると、それぞれ何という三角形ができますか。

①



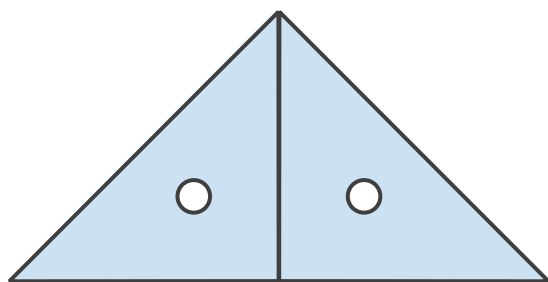
答え：

②



答え：

③



答え：





三角形と角 00

● 三角定規で作る
三角形の形

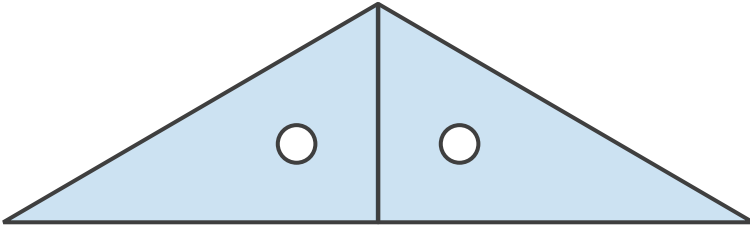


日にち： 月 日

名まえ _____

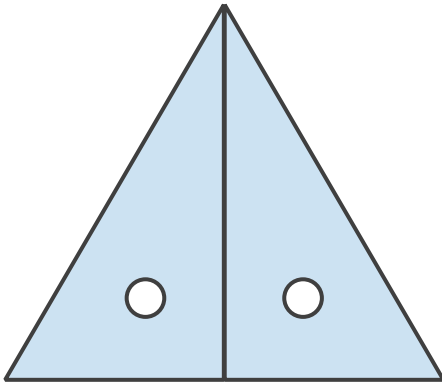
- ・ 次の図のように、三角じょうぎを2まいならべると、それぞれ何という三角形ができますか。

①



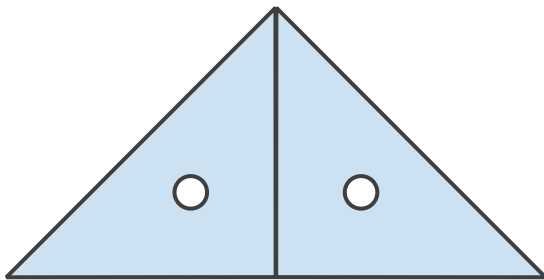
答え： **二等辺三角形**

②



答え： **正三角形**

③



答え： **二等辺三角形**

