



三角形と角 9

◎ 三角定規の角

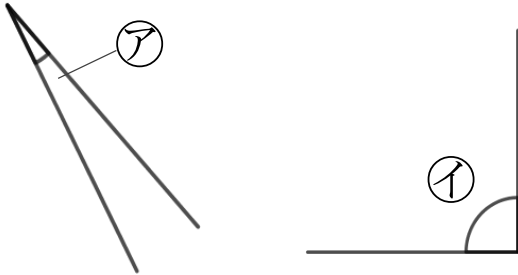


日にち： 月 日

名まえ _____

1 次の図で、次の角を見つけて、㉠～㉨で答えましょう。

(うすい字はしっかりなぞりましょう。)



① いちばん大きい角

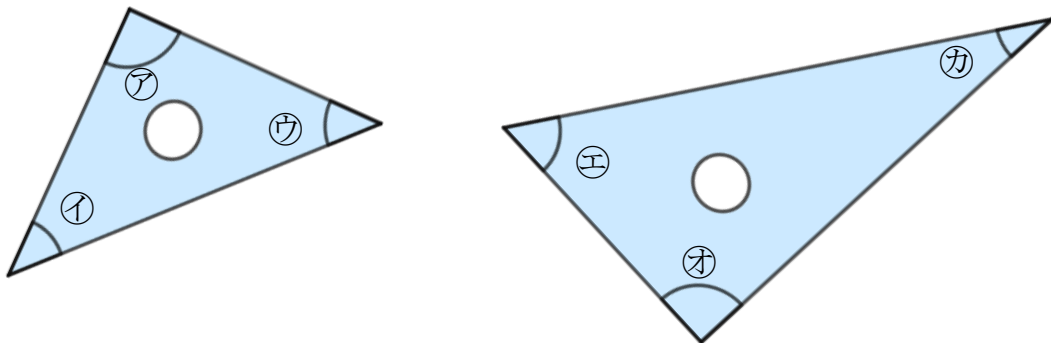


答え： ㉣

② いちばん小さい角

答え： _____

2 三角じょうぎの、かどの形を調べましょう。



① 直角になっているかどは、どれですか。

答え： _____

② いちばんとがってるかどは、どれですか。

答え： _____



三角形と角 9

◎ 三角定規の角

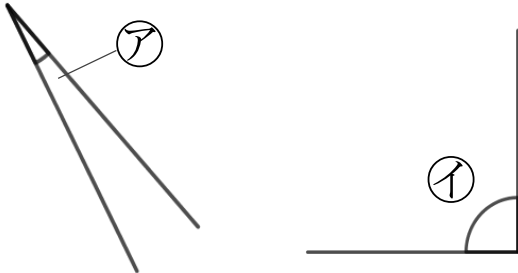


日にち： 月 日

名まえ _____

1 次の図で、次の角を見つけて、㉠～㉤で答えましょう。

(うすい字はしっかりなぞりましょう。)



① いちばん大きい角

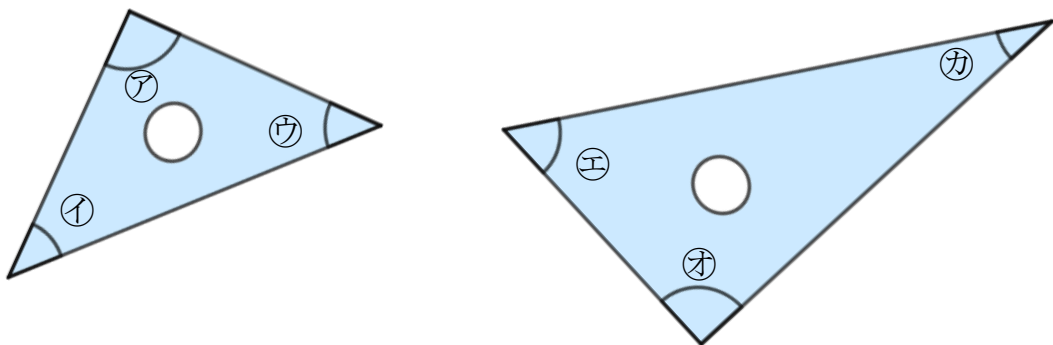


答え： ㉤

② いちばん小さい角

答え： ㉠

2 三角じょうぎの、かどの形を調べましょう。



① 直角になっているかどは、どれですか。

答え： ㉠, ㉢

② いちばんとがってるかどは、どれですか。

答え： ㉤