



三角形と角5

● 二等辺三角形や
正三角形の中の等しい角



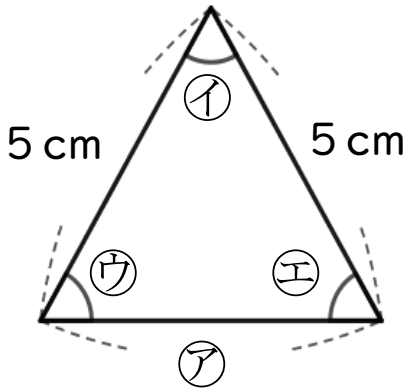
日にち： 月 日

名まえ

1 次の図は、正三角形です。

(うすい字はしっかりなぞりましょう。)

① ㉠の辺の長さは何cmですか。



答え：

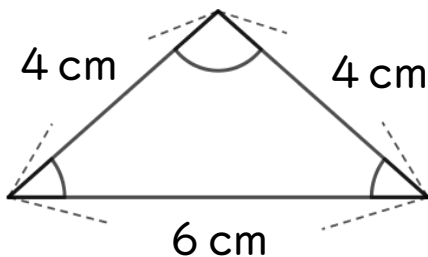
② ㉠の角と大きさが等しい角は、どの角ですか。

答え：

2 次の三角形について答えましょう。

(うすい字はしっかりなぞりましょう。)

① 何という三角形ですか。



答え：

② 大きさが等しい角は、いくつありますか。

答え：

2つ



三角形と角 5

● 二等辺三角形や
正三角形の中の等しい角



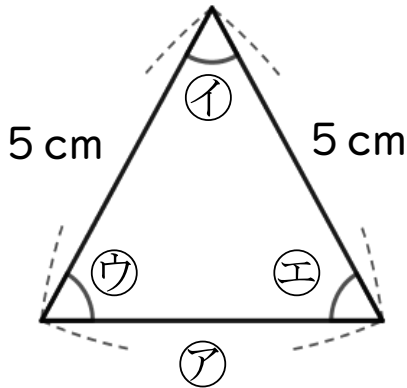
日にち： 月 日

名まえ

1 次の図は、正三角形です。

(うすい字はしっかりなぞりましょう。)

① ㉠の辺の長さは何cmですか。



答え： 5 cm

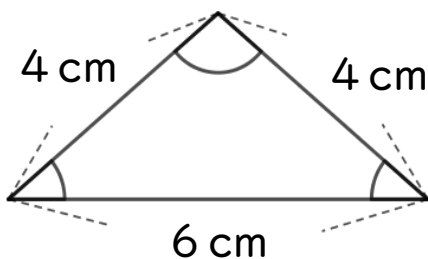
② ㉠の角と大きさが等しい角は、どの角ですか。

答え： ㉡, ㉢

2 次の三角形について答えましょう。

(うすい字はしっかりなぞりましょう。)

① 何という三角形ですか。



答え： 二等辺三角形

② 大きさが等しい角は、いくつありますか。

答え： 2つ