



三角形と角 3

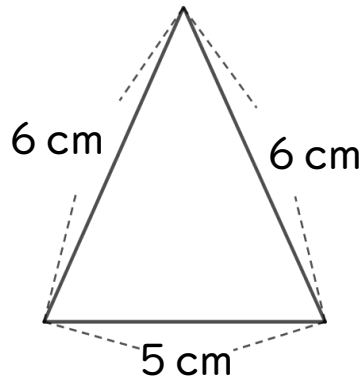
● コンパスを使った
二等辺三角形のかき方



日にち： 月 日



名まえ _____

・ 次の二等辺三角形をかきましょう。(うすい線はしっかりなぞろう。)



① 5 cmの辺を引く。

② コンパスで6 cmのところ
にしるしをつける。



はりはここに
さすよ！



③ 反対がわも6 cmのしるしと
交わるようにしるしをつける。

④ 交わったところと辺のはしを
線でおすぶ。



③ 確認



すらすらぷりんと



三角形と角 3

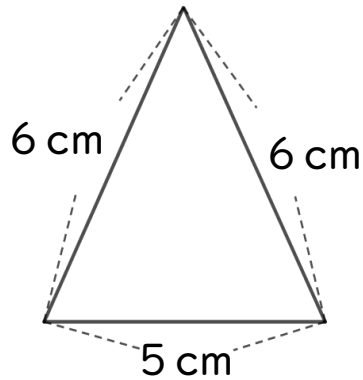
● コンパスを使った
二等辺三角形のかき方



日にち： 月 日



名まえ _____

・ 次の二等辺三角形をかきましょう。(うすい線はしっかりなぞろう。)



① 6 cmの辺を引く。

② コンパスで7 cmのところ
にしるしをつける。



③ 反対がわも7 cmのしるしと
交わるようにしるしをつける。

④ 交わったところと辺のはしを
線でおすぶ。

