



三角形と角2

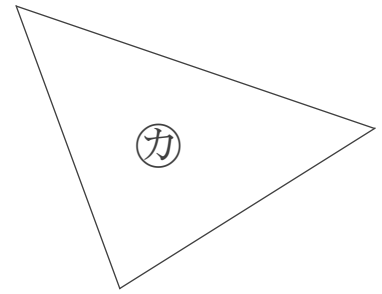
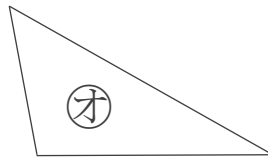
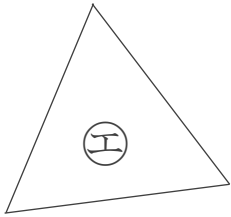
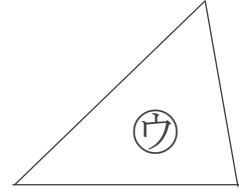
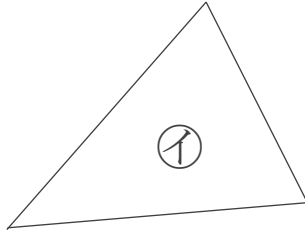
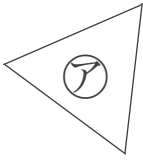
● 正三角形と
二等辺三角形はどれ？



日にち： 月 日

名まえ _____

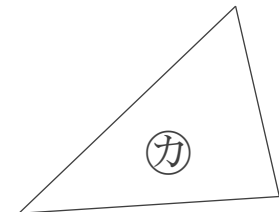
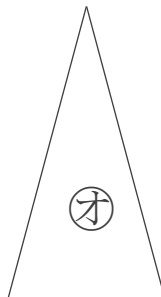
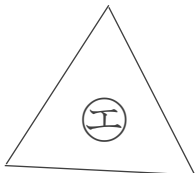
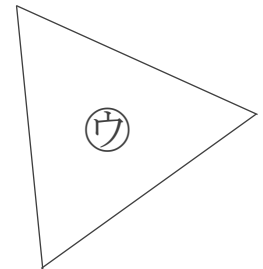
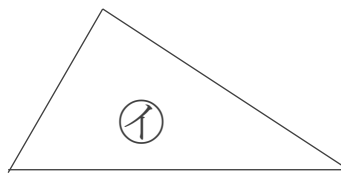
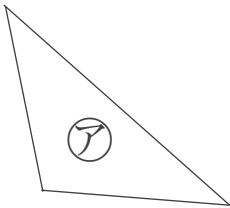
1 下の図から、正三角形と二等辺三角形をえらびましょう。



答え： 正三角形…

二等辺三角形…

2 下の図から、正三角形と二等辺三角形をえらびましょう。



答え： 正三角形…

二等辺三角形…



三角形と角2

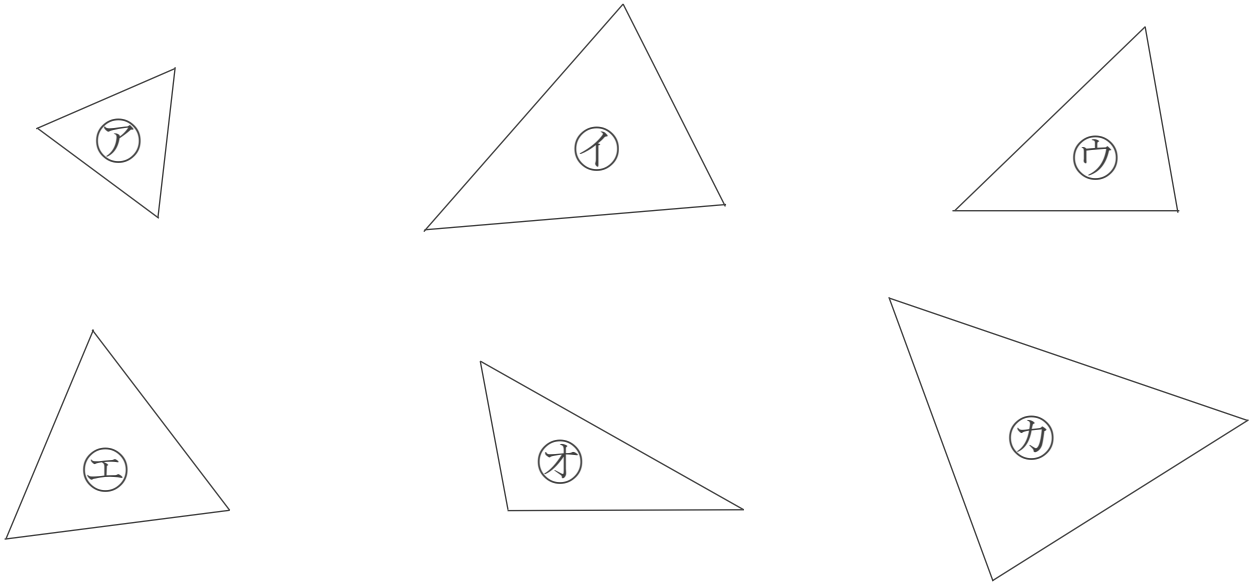
● 正三角形と
二等辺三角形はどれ？



日にち： 月 日

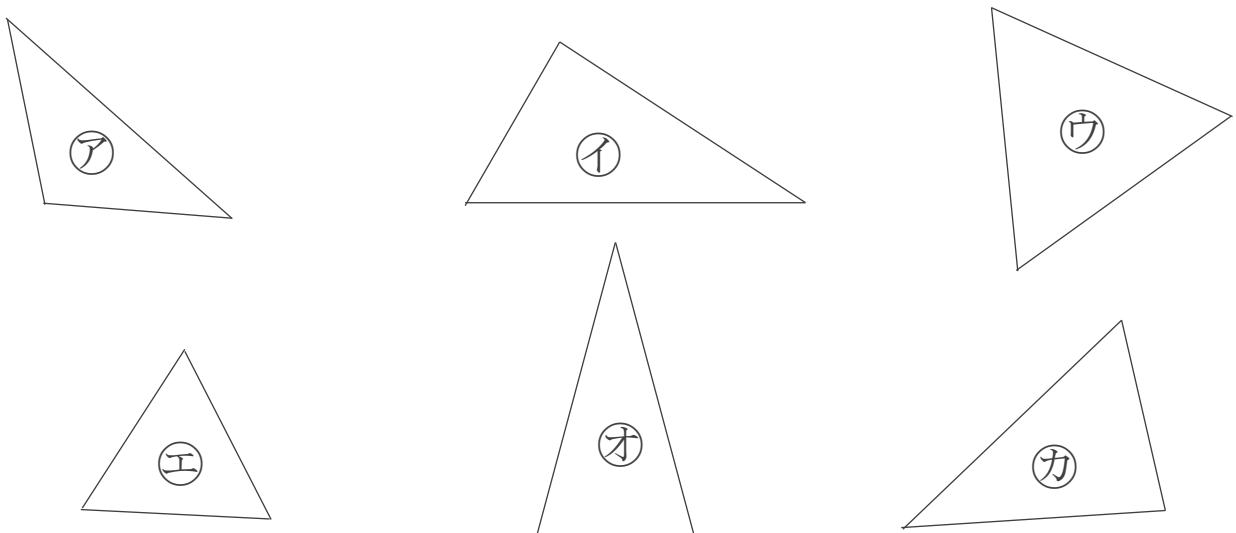
名まえ _____

1 下の図から、正三角形と二等辺三角形をえらびましょう。



答え： 正三角形… **ア, エ** 二等辺三角形… **イ, カ**

2 下の図から、正三角形と二等辺三角形をえらびましょう。



答え： 正三角形… **ウ, エ** 二等辺三角形… **ア, オ**