

三角形と角 6

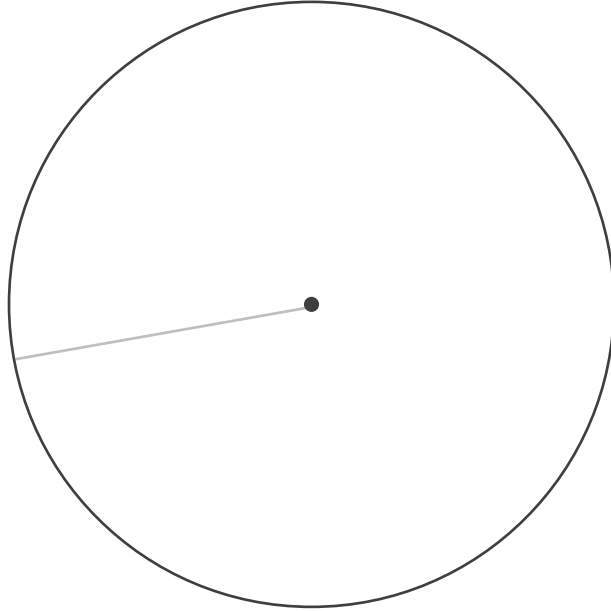
● 円を使った
二等辺三角形のかき方



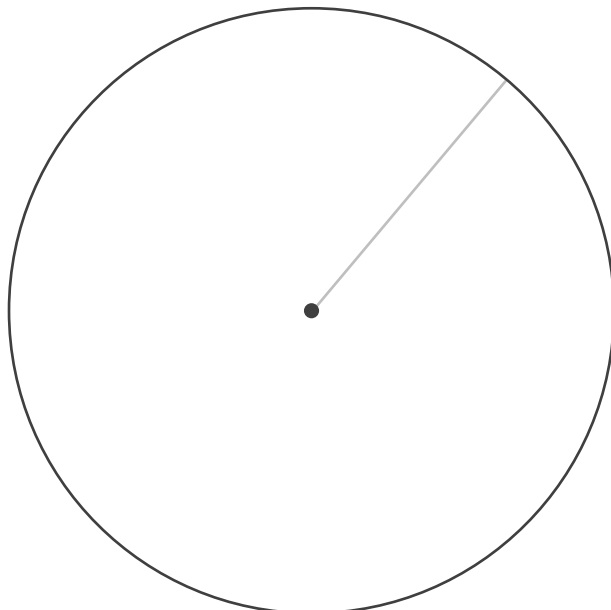
日にち： 月 日


名まえ _____

- 1 円の中に、二等辺三角形をかきましょう。
(うすい線はなぞりましょう。)



- 2 円の中に、二等辺三角形をかきましょう。
(うすい線はなぞりましょう。)





三角形と角 6

● 円を使った
二等辺三角形のかき方

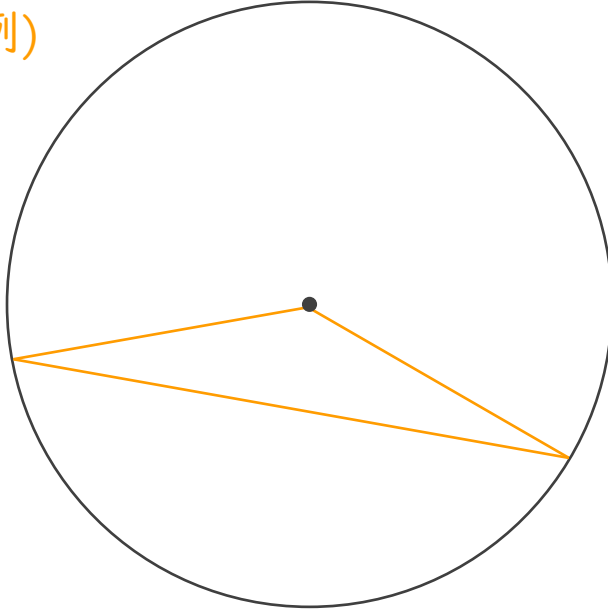


日にち： 月 日

名まえ _____

- 1 円の中に、二等辺三角形をかきましょう。
(うすい線はなぞりましょう。)

(例)



- 2 円の中に、二等辺三角形をかきましょう。
(うすい線はなぞりましょう。)

(例)

