



円と球 3

● 円の中の一番長い線（直径）

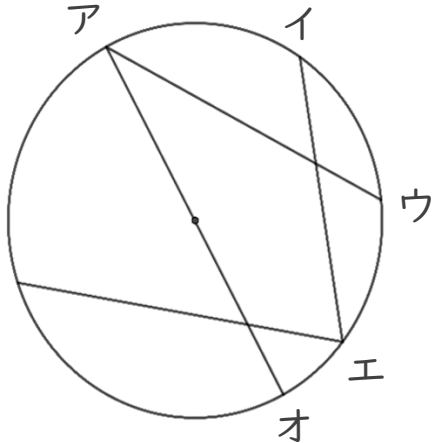


日にち： 月 日

名まえ _____

・ 次の円の中にひいた直線で一番長い直線はどれですか。

①

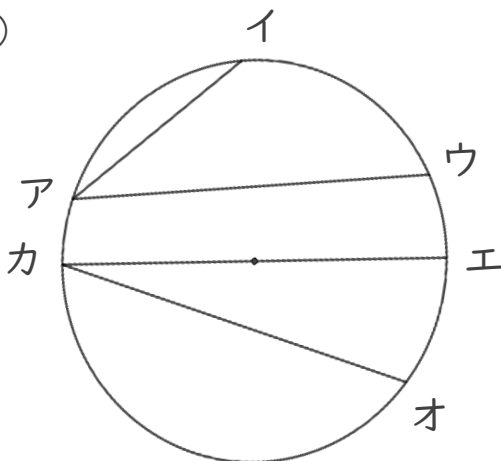


直径が一番長い。

直径は、**中心** を通っている線！

答え： _____

②



答え： _____

③ 確認



円と球 3

● 円の中の一番長い線（直径）

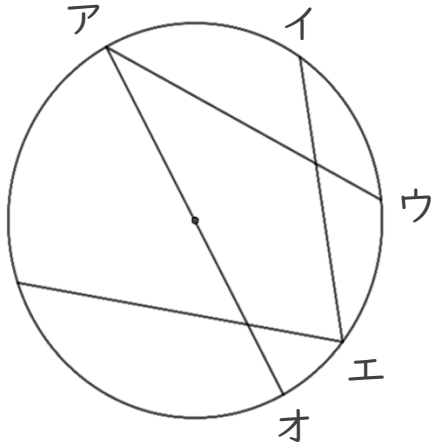


日にち： 月 日

名まえ _____

・ 次の円の中にひいた直線で一番長い直線はどれですか。

①

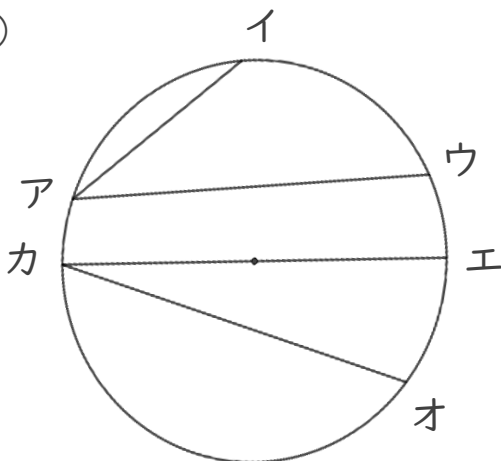


直径が一番長い。

直径は、**中心** を通っている線！

答え： 直線アオ

②



答え： 直線カエ

