



円と球 4

● 半径の長さから円をかく

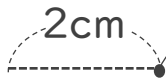


日にち： 月 日

名まえ _____

・コンパスを使って、次の円をかきましょう。

① 半径が 2 cm の円



① コンパスを 2cm に開いて
中心にはりをさして
円をかく

② かいた円の直径が
4cm になっているか
チェックしよう

② 半径が 4 cm 5 mm の円

① コンパスを
に開いて円をかく

② かいた円の直径が
 になっているか
チェックしよう



円と球 4

● 半径の長さから円をかく

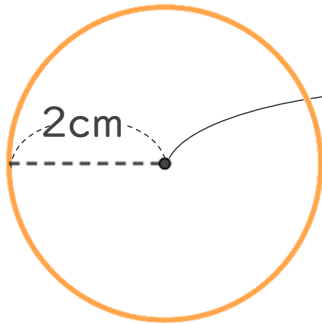


日にち： 月 日

名まえ _____

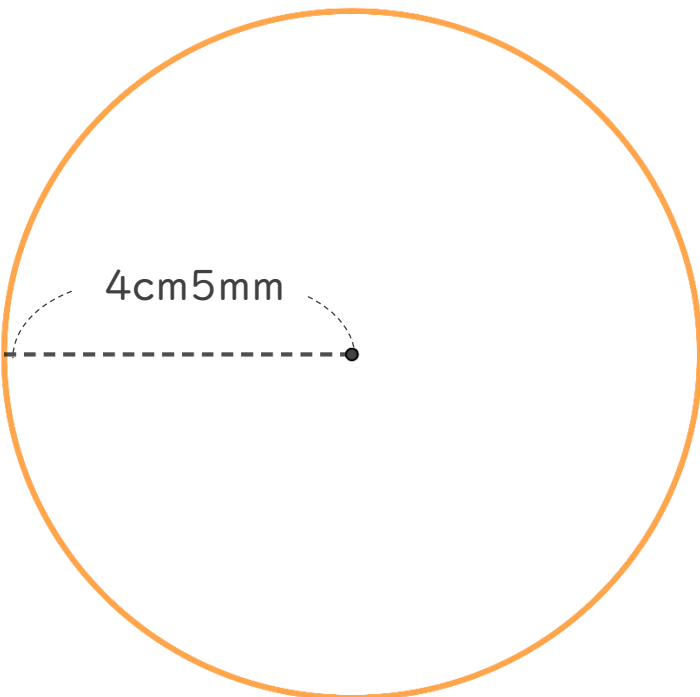
・コンパスを使って、次の円をかきましょう。

① 半径が 2 cm の円



- ① コンパスを 2cm に開いて **中心** にはりをさして円をかく
- ② かいた円の直径が 4cm になっているかチェックしよう

② 半径が 4 cm 5 mm の円



- ① コンパスを **4cm5mm** に開いて円をかく
- ② かいた円の直径が **9 cm** になっているかチェックしよう

③ 確認 答え

