



わり算 7

● 商が0や1になるわり算



日にち： 月 日

名まえ _____

- 箱に入っているクッキーを4人で同じ数ずつ分けます。1人分は何こになりますか。



① 12こ入っているとき



$$\square \div 4 = \square$$

答え _____



② 4こ入っているとき



$$\square \div 4 = \square$$

答え _____

③ 入っていないとき



$$\square \div 4 = \square$$

答え _____

0をどんな数でわっても、
答えはいつも0になるよ！





わり算 7

● 商が0や1になるわり算




日にち： 月 日

名まえ _____

- 箱に入っているクッキーを4人で同じ数ずつ分けます。1人分は何こになりますか。


① 12こ入っているとき



$$12 \div 4 = 3$$

答え 3こ



② 4こ入っているとき



$$4 \div 4 = 1$$

答え 1こ

③ 入っていないとき



$$0 \div 4 = 0$$

答え 0こ

0をどんな数でわっても、
答えはいつも0になるよ！

