



# 小数の意味と表し方7

● 小数で表す1cmより短い長さ



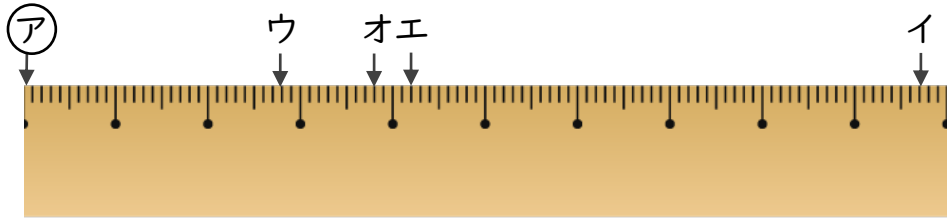
日にち：            月            日

名まえ

---

・ ㊦からイ、ウ、エ、オまでの長さは、それぞれ何cmですか。  
(うすい字はしっかりなぞりましょう。)

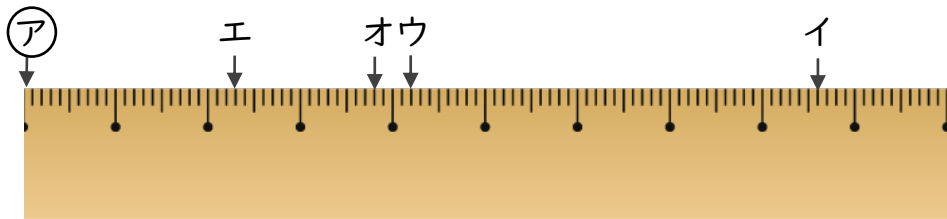
①



答え    ㊦からイ    9.7 cm            ㊦からウ    2.7 cm  
          ㊦からエ                                            ㊦からオ

---

②



答え    ㊦からイ                                            ㊦からウ  
          ㊦からエ                                            ㊦からオ

---



# 小数の意味と表し方7

● 小数で表す1cmより短い長さ

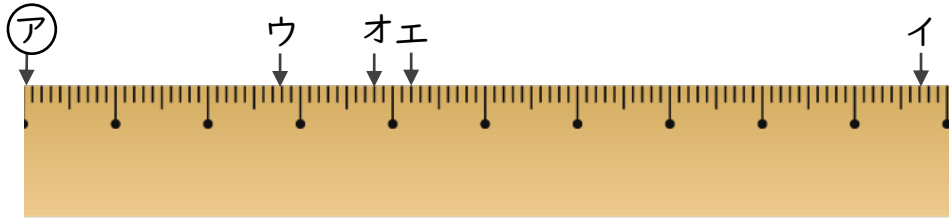


日にち：            月            日

名まえ

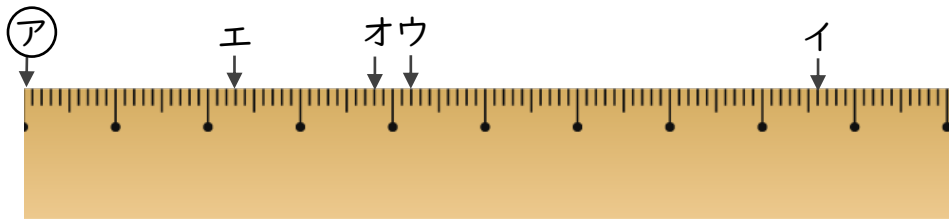
・ ㊦からイ、ウ、エ、オまでの長さは、それぞれ何cmですか。  
(うすい字はしっかりなぞりましょう。)

①



答え    ㊦からイ    **9.7 cm**            ㊦からウ    **2.7 cm**  
           ㊦からエ    **4.2 cm**            ㊦からオ    **3.8 cm**

②



答え    ㊦からイ    **8.6 cm**            ㊦からウ    **4.2 cm**  
           ㊦からエ    **2.3 cm**            ㊦からオ    **3.8 cm**