



小数のたし算とひき算 14

● 小数のひき算の文章問題

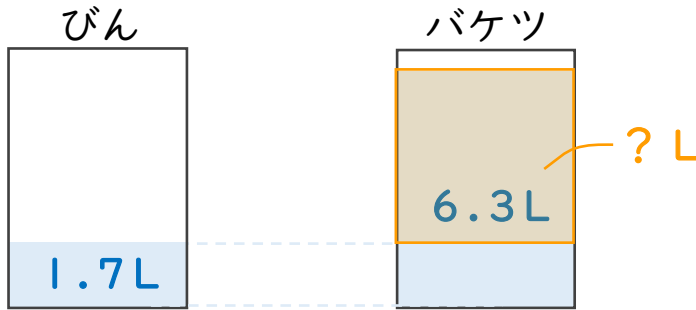


日にち： 月 日

名まえ _____

・次の問いに答えましょう。（うすい字は、しっかりなぞりましょう。）

- 1 びんには1.7L、バケツには6.3Lの水が入っています。
バケツには、びんより何L多く水が入っていますか。

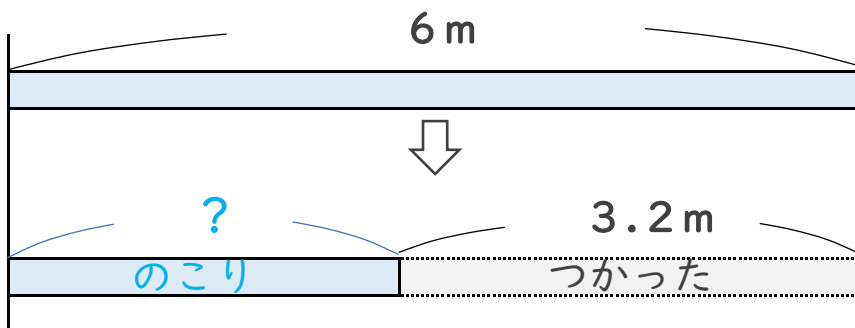


筆算

式： $6.3 - 1.7 =$

答え： _____

- 2 6mのリボンがあります。今日3.2m使うと、のこりのリボンの長さは何mになりますか。



筆算

式：

答え： _____





小数のたし算とひき算 14

● 小数のひき算の文章問題

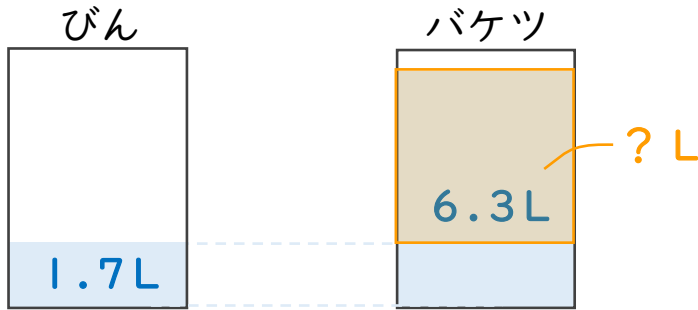


日にち： 月 日

名まえ _____

・次の問いに答えましょう。（うすい字は、しっかりなぞりましょう。）

- 1 びんには1.7L、バケツには6.3Lの水が入っています。
バケツには、びんより何L多く水が入っていますか。



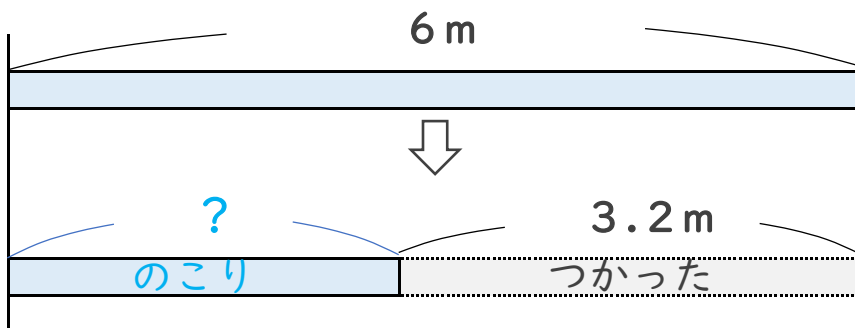
筆算

$$\begin{array}{r} \overset{5}{\cancel{6}.3} \\ - 1.7 \\ \hline 4.6 \end{array}$$

式： $6.3 - 1.7 = 4.6$

答え： 4.6L

- 2 6mのリボンがあります。今日3.2m使うと、のこりのリボンの長さは何mになりますか。



筆算

$$\begin{array}{r} \overset{5}{\cancel{6}.0} \\ - 3.2 \\ \hline 2.8 \end{array}$$

式： $6 - 3.2 = 2.8$

答え： 2.8m