



小数の意味と表し方Ⅱ

● 小数の位置を数直線へ書きこむ



日にち： 月 日

名まえ _____

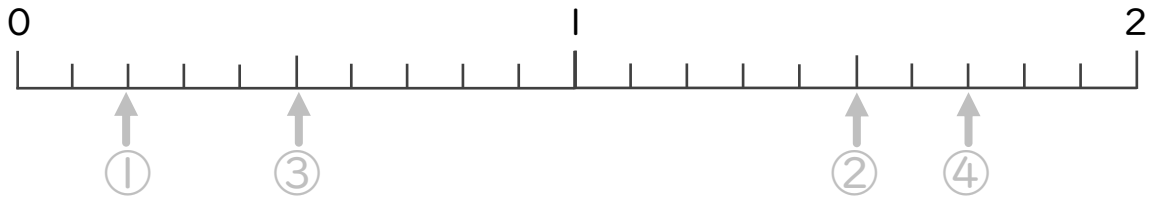
・ 次の数を、数直線に ↑ で数を書きましょう。
(うすい字はしっかりなぞりましょう。)

① 0.2

② 1.5

③ 0.5

④ 1.7



⑤ 0.3

⑥ 0.7

⑦ 1.4

⑧ 0.8



⑨ 1.6

⑩ 1.3

⑪ 0.3

⑫ 0.1





小数の意味と表し方 II

● 小数の位置を数直線へ書きこむ

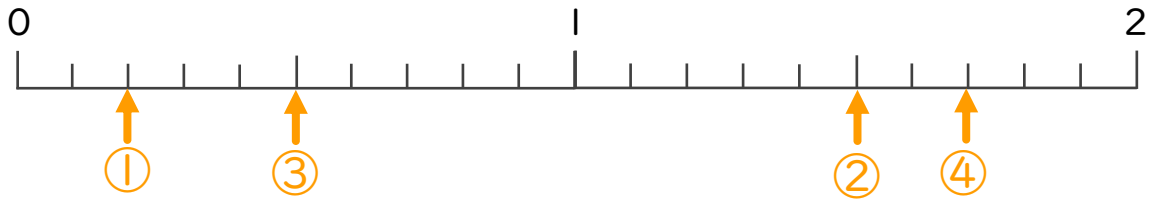


日にち： 月 日

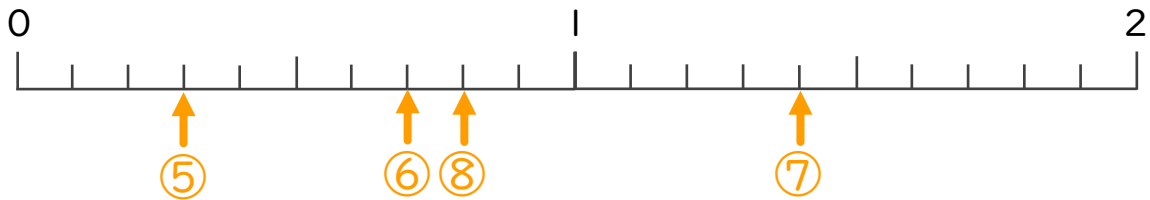
名まえ

・ 次の数を、数直線に ↑ で数を書きましょう。
(うすい字はしっかりなぞりましょう。)

- ① 0.2 ② 1.5 ③ 0.5 ④ 1.7



- ⑤ 0.3 ⑥ 0.7 ⑦ 1.4 ⑧ 0.8



- ⑨ 1.6 ⑩ 1.3 ⑪ 0.3 ⑫ 0.1

