



□を使った式 10

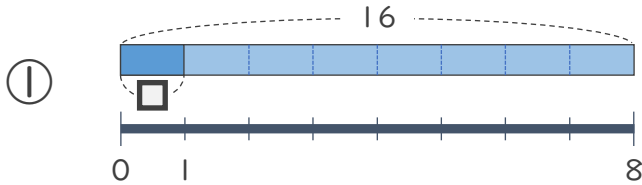
● 数 ÷ □ の
□ をもとめる計算



日にち： 月 日

名まえ _____

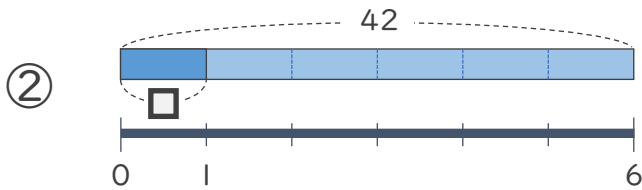
- にあてはまる数をもとめましょう。(うすい字はなぞりましょう)



$$16 \div \square = 8$$

$$\square = 16 \div 8$$

$$\square = 2$$



$$42 \div \square = 6$$

$$\square =$$

$$\square =$$



□を使った式 10

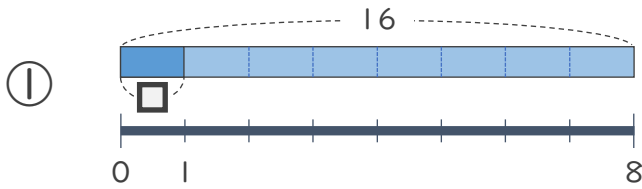
● 数 ÷ □ の
□ をもとめる計算



日にち： 月 日

名まえ _____

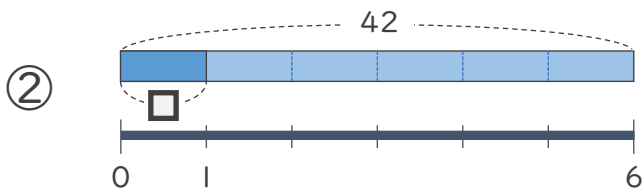
・ □ にあてはまる数をもとめましょう。(うすい字はなぞりましょう)



$$16 \div \square = 8$$

$$\square = 16 \div 8$$

$$\square = 2$$



$$42 \div \square = 6$$

$$\square = 42 \div 6$$

$$\square = 7$$