



小数の意味と表し方 10

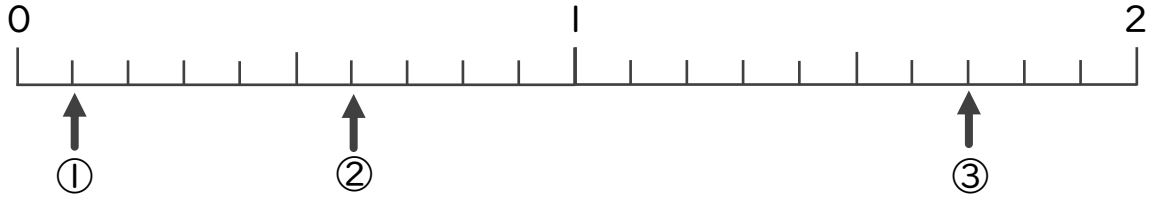
● 数直線の小数の読みとり



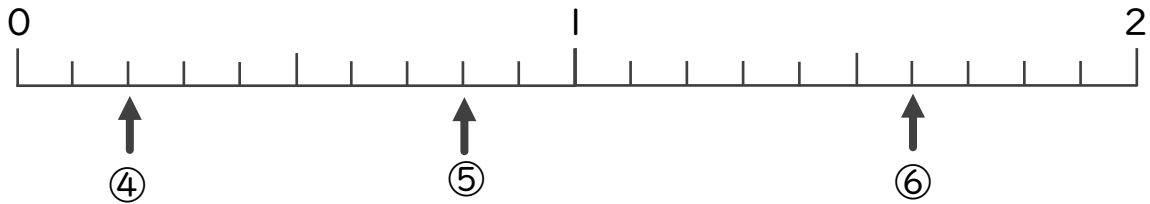
日にち： 月 日

名まえ _____

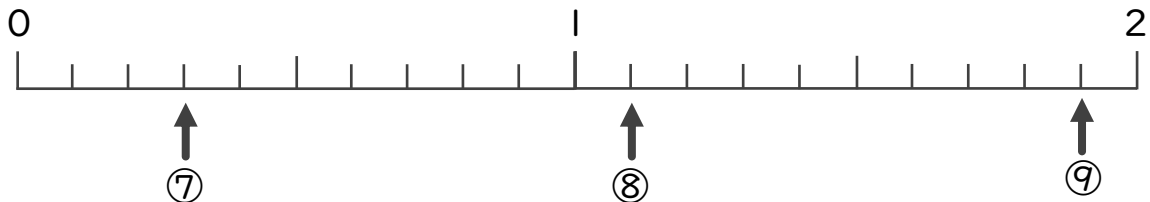
・ 下の数直線を見て ↑ のめもりが表す数を書きましょう。
(うすい字はしっかりなぞりましょう。)



① 0.1 ② 0.6 ③ 1.7



④ 0.4 ⑤ 0.5 ⑥ 0.6



⑦ 0.7 ⑧ 0.8 ⑨ 0.9



小数の意味と表し方 10

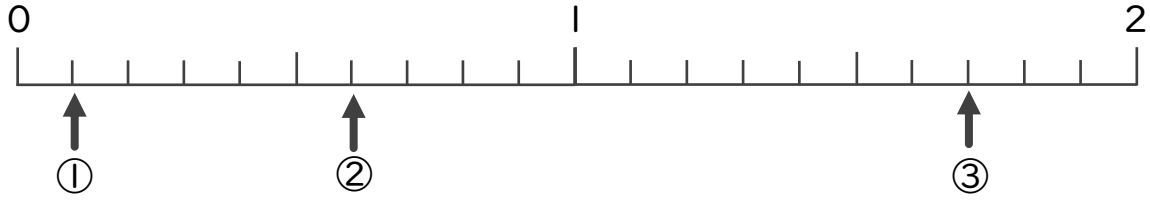
数直線の小数の読みとり



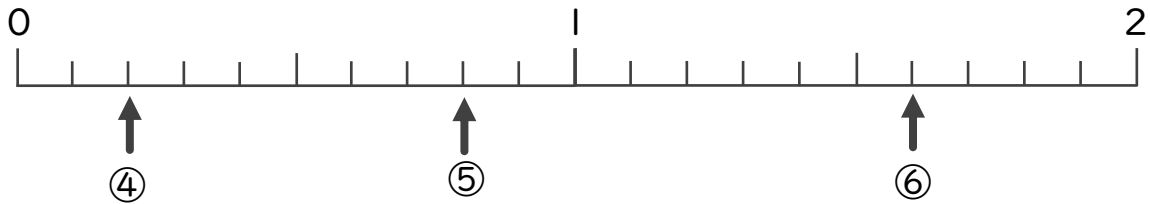
日にち： 月 日

名まえ _____

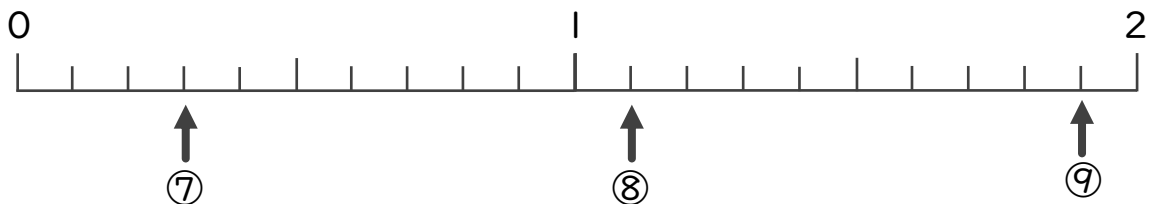
・下の数直線を見て ↑ のめもりが表す数を書きましょう。
(うすい字はしっかりなぞりましょう。)



① 0.1 ② 0.6 ③ 1.7



④ 0.2 ⑤ 0.8 ⑥ 1.6



⑦ 0.3 ⑧ 1.1 ⑨ 1.9