



# □を使った式 8

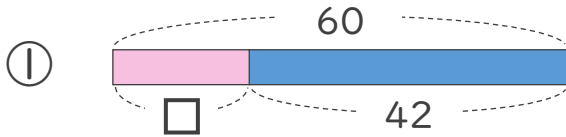
● 数-□の□をもとめる計算



日にち：            月            日

名まえ \_\_\_\_\_

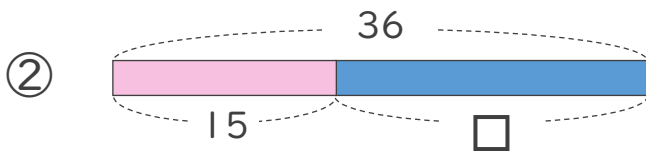
・ □にあてはまる数をもとめましょう。



$$60 - \square = 42$$

$$\square =$$

$$\square =$$



$$36 - \square = 15$$

$$\square =$$

$$\square =$$





## □を使った式 8

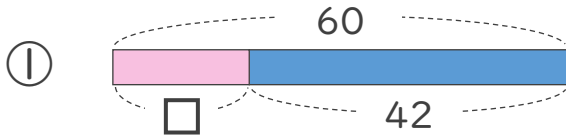
● 数-□の□を  
もとめる計算



日にち：        月        日

名まえ \_\_\_\_\_

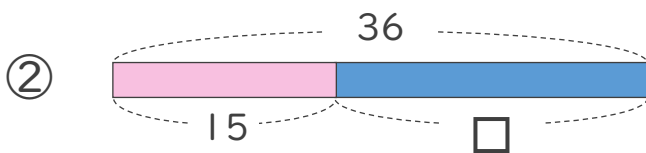
- にあてはまる数をもとめましょう。



$$60 - \square = 42$$

$$\square = 60 - 42$$

$$\square = 18$$



$$36 - \square = 15$$

$$\square = 36 - 15$$

$$\square = 21$$

