



時こくと時間の もとめかた 8



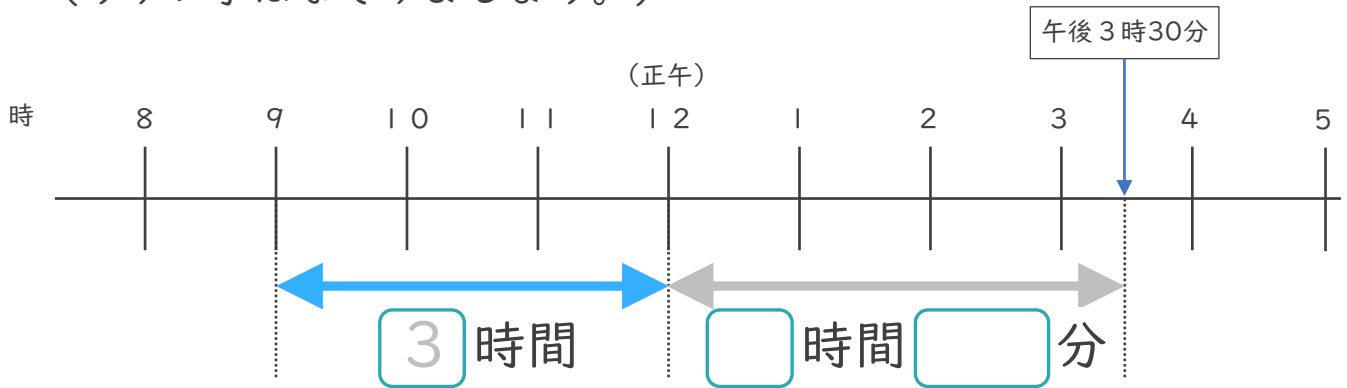
● 正午をはさむ計算

日にち： 月 日

名まえ _____

1 午前9時から午後3時30分までの時間をもとめます。

(うすい字はなぞりましょう。)

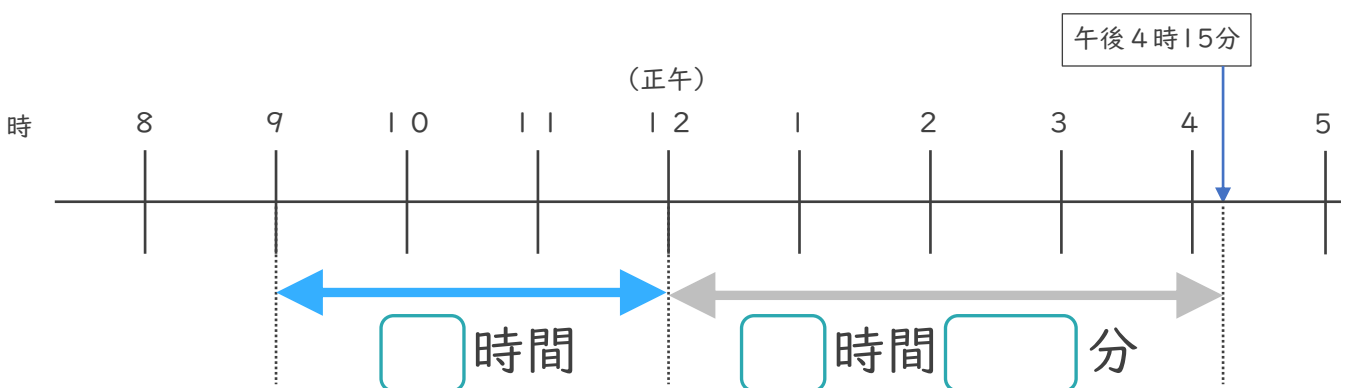


① □ にあてはまる数を書きましょう。

② 午前9時から午後3時30分までの時間は何時間何分ですか。

答え (時間 分)

2 午前9時から午後4時15分までの時間をもとめます。



① □ にあてはまる数を書きましょう。

② 午前9時から午後4時15分までの時間は何時間何分ですか。

答え ()





時こくと時間の もとめかた 8



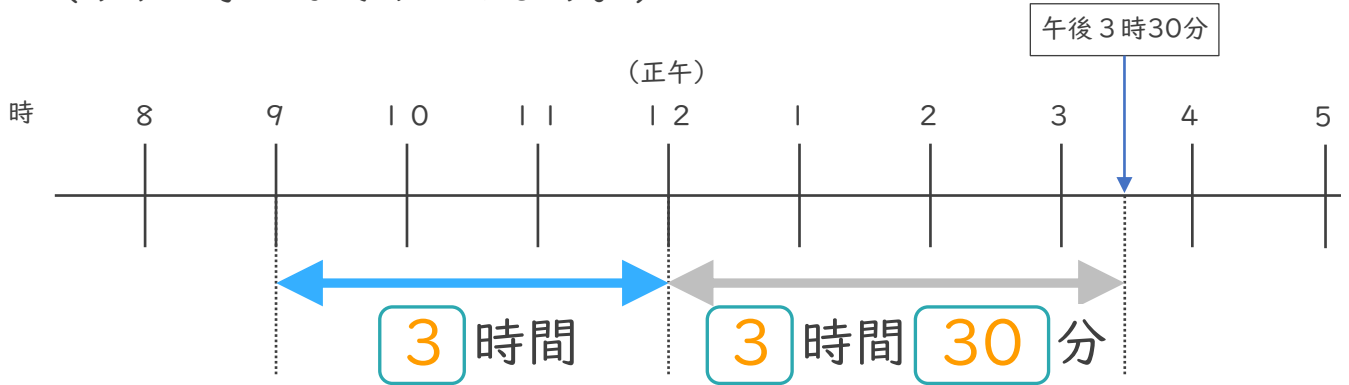
● 正午をはさむ計算

日にち： 月 日

名まえ _____

1 午前9時から午後3時30分までの時間をもとめます。

(うすい字はなぞりましょう。)

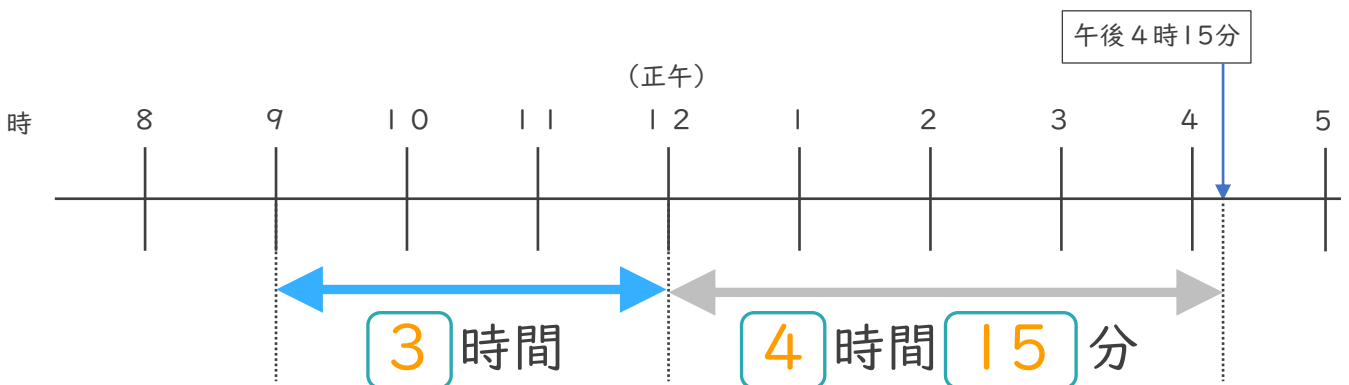


① にあてはまる数を書きましょう。

② 午前9時から午後3時30分までの時間は何時間何分ですか。

答え (**6 時間 3 0 分**)

2 午前9時から午後4時15分までの時間をもとめます。



① にあてはまる数を書きましょう。

② 午前9時から午後4時15分までの時間は何時間何分ですか。

答え (**7 時間 1 5 分**)

③ 確認 答え



すらすらぷりんと