



円と球 5

● 直径の長さから円をかく

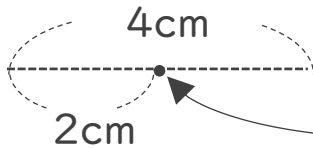
3

日にち： 月 日

名まえ _____

- ・コンパスを使って、次の円をかきましょう。
(うすい字はなぞりましょう。)

① 直径が4cmの円



- ① 半径は 2 cm
- ② コンパスを 2 cm に開いて **中心** にはりを
さしてたて円をかく
- ③ 円の直径が 4 cm になっているかチェックしよう

② 直径が3cmの円

- ① 半径は cm mm
- ② コンパスを に開いて円をかく
- ③ 円の直径が 3 cm になっているかチェックしよう



円と球 5

◎ 直径の長さから円をかく

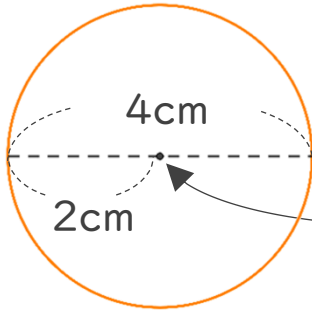
3

日にち： 月 日

名まえ _____

・コンパスを使って、次の円をかきましょう。
(うすい字はなぞりましょう。)

① 直径が4cmの円

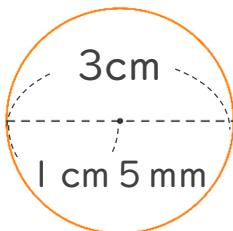


① 半径は 2 cm

② コンパスを 2 cm に開いて
中心 にはりを
さして円をかく

③ 円の直径が 4 cm になって
いるかチェックしよう

② 直径が3cmの円



① 半径は 1 cm 5 mm

② コンパスを 1 cm 5 mm
に開いて円をかく

③ 円の直径が 3 cm になって
いるかチェックしよう