



## 円と球 5

● 直径の長さから円をかく

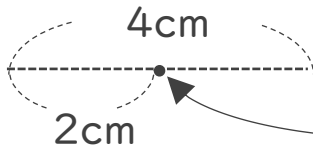


日にち：            月            日

名まえ \_\_\_\_\_

・コンパスを使って、次の円をかきましょう。  
(うすい字はなぞりましょう。)

① 直径が4 cmの円



① 半径は 2 cm

② コンパスを 2 cm に開いて  
中心 にはりを  
さして円をかく

③ 円の直径が4 cmになって  
いるかチェックしよう

② 直径が3 cmの円

① 半径は            cm            mm

② コンパスを    
に開いて円をかく

③ 円の直径が3 cmになって  
いるかチェックしよう

③ 確認





## 円と球 5

◎ 直径の長さから円をかく

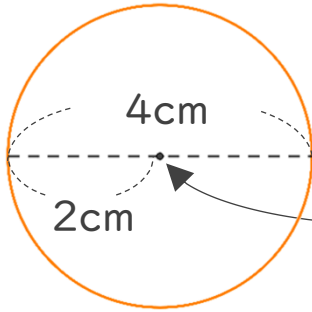


日にち：            月            日

名まえ \_\_\_\_\_

・コンパスを使って、次の円をかきましょう。  
(うすい字はなぞりましょう。)

### ① 直径が4 cmの円

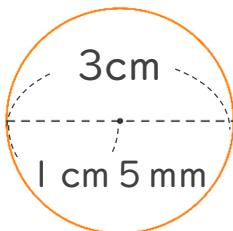


① 半径は **2** cm

② コンパスを 2 cm に開いて  
**中心** にはりを  
さして円をかく

③ 円の直径が4 cmになって  
いるかチェックしよう

### ② 直径が3 cmの円



① 半径は **1** cm **5** mm

② コンパスを **1 cm 5 mm**  
に開いて円をかく

③ 円の直径が3 cmになって  
いるかチェックしよう