



三角形と角 10

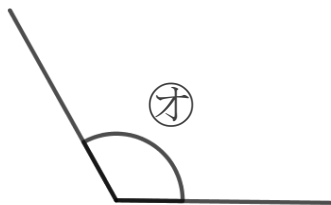
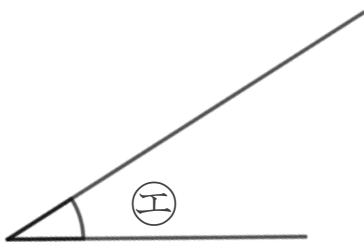
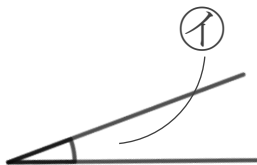
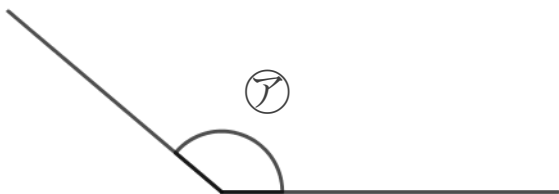
● 角を大きい
じゅんにならべる



日にち： 月 日

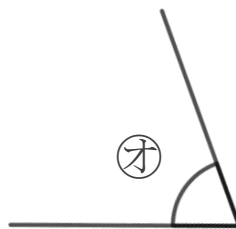
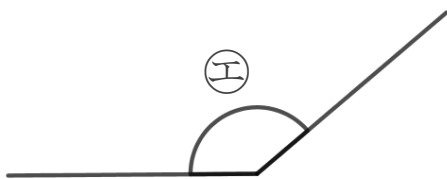
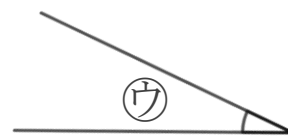
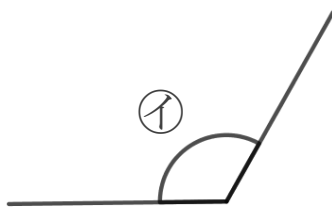

名まえ _____

1 次の角の大きさをくらべて、小さいじゅんに書きましょう。
(うすい字はなぞりましょう。)



答え： $\textcircled{\text{イ}}$ \rightarrow \rightarrow $\textcircled{\text{ウ}}$ \rightarrow \rightarrow

2 次の角の大きさをくらべて、大きいじゅんに書きましょう。
(うすい字はなぞりましょう。)



答え： \rightarrow $\textcircled{\text{イ}}$ \rightarrow $\textcircled{\text{ア}}$ \rightarrow \rightarrow





三角形と角 10

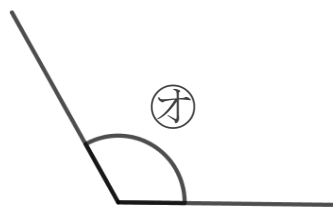
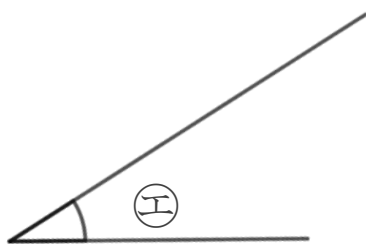
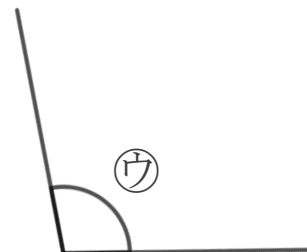
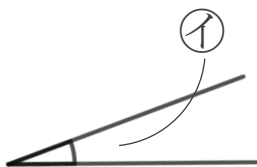
● 角を大きい
じゅんにならべる



日にち： 月 日

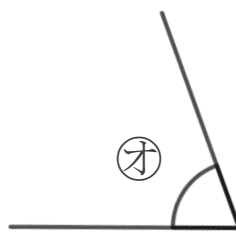
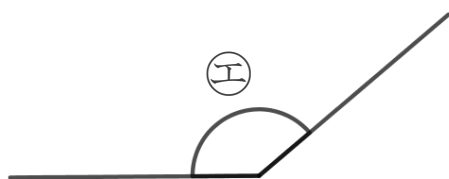
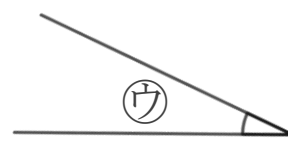
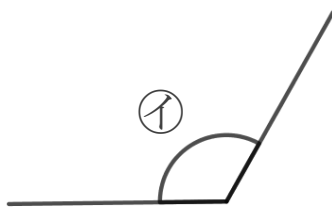

名まえ _____

1 次の角の大きさをくらべて、小さいじゅんに書きましょう。
(うすい字はなぞりましょう。)



答え： イ → エ → ウ → オ → ア

2 次の角の大きさをくらべて、大きいじゅんに書きましょう。
(うすい字はなぞりましょう。)



答え： エ → イ → ア → オ → ウ

