



# 分数 8

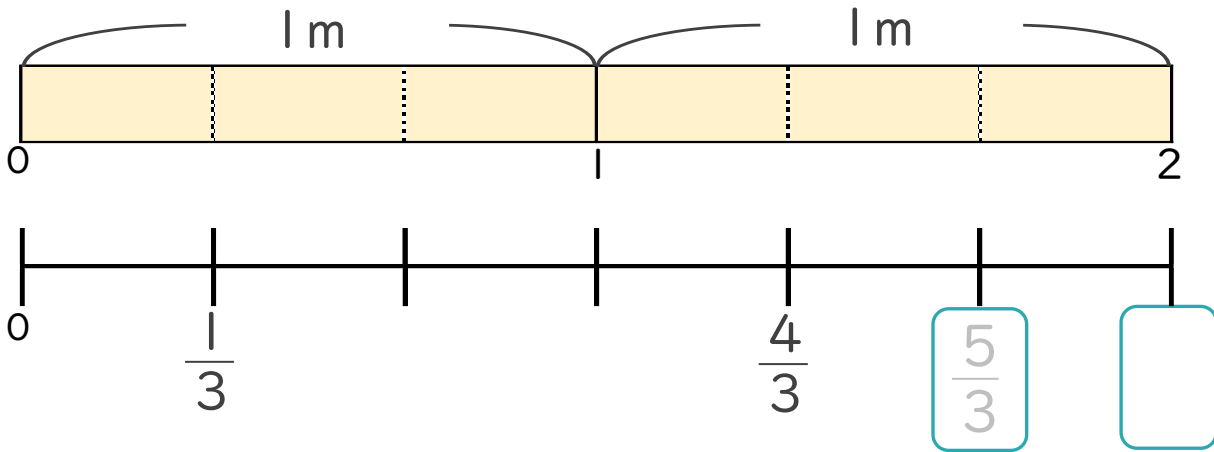
● 1より大きい分数を  
数直線に表す



日にち： 月 日

名まえ \_\_\_\_\_

1 次の図を見て答えましょう。(うすい字はなぞりましょう。)



①  にあてはまる分数を書きましょう。

②  $\frac{1}{3}$  mの6こ分の長さは何mですか。

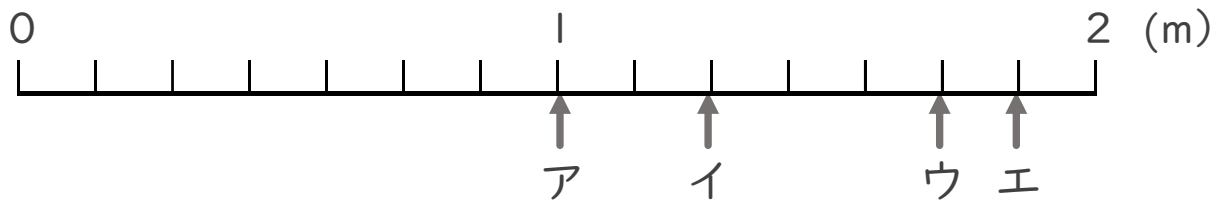
整数 2 m

分数と整数でそれぞれ表しましょう。

分数 m

2 ア～エのめもりが表す長さは、それぞれ何mですか。

(うすい字はなぞりましょう。)



答え

ア          m    イ          m    ウ          m    エ          m



# 分数 8

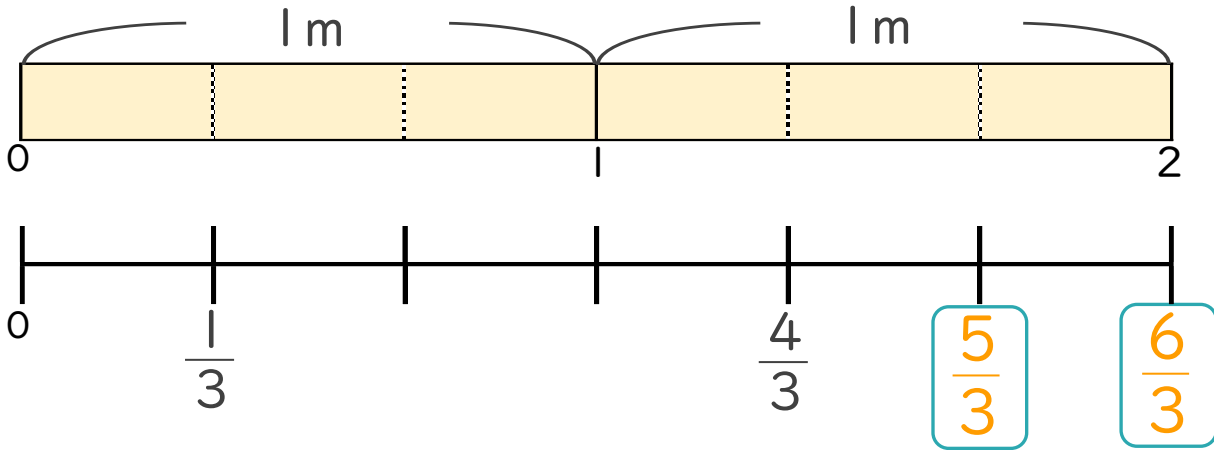
1より大きい分数を数直線に表す



日にち： 月 日

名まえ \_\_\_\_\_

1 次の図を見て答えましょう。(うすい字はなぞりましょう。)



①  にあてはまる分数を書きましょう。

②  $\frac{1}{3}$  mの6こ分の長さは何mですか。

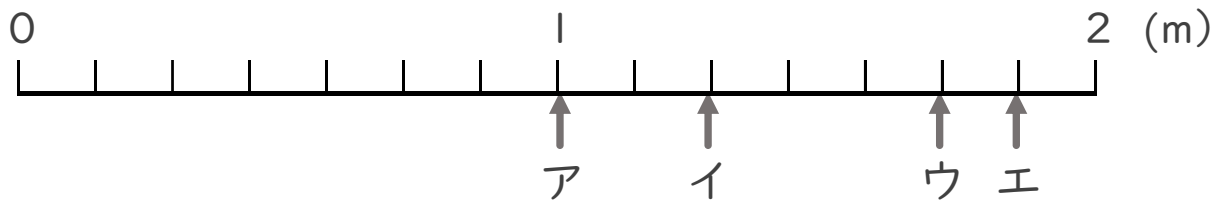
整数 2 m

分数と整数でそれぞれ表しましょう。

分数  $\frac{6}{3}$  m

2 ア～エのめもりが表す長さは、それぞれ何mですか。

(うすい字はなぞりましょう。)



答え ア 1 m    イ  $\frac{9}{7}$  m    ウ  $\frac{12}{7}$  m    エ  $\frac{13}{7}$  m

