



分数 7

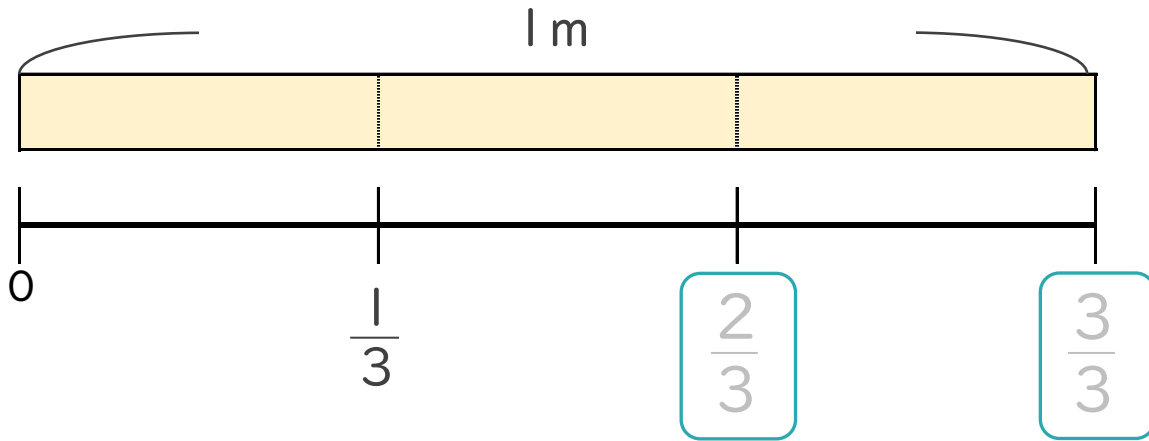
● 1より小さい分数を数直線に表す



日にち： 月 日

名まえ _____

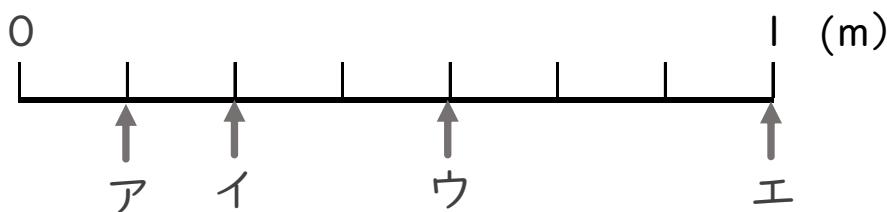
1 次の図を見て答えましょう。(うすい字はなぞりましょう。)



① にあてはまる分数を書きましょう。

② $\frac{1}{3}$ mの3こ分の長さは何mですか。 m

2 ア～エのめもりが表す長さは、それぞれ何mですか。
(うすい字はなぞりましょう。)



答え ア $\frac{1}{7}$ m イ m ウ m エ m



分数 7

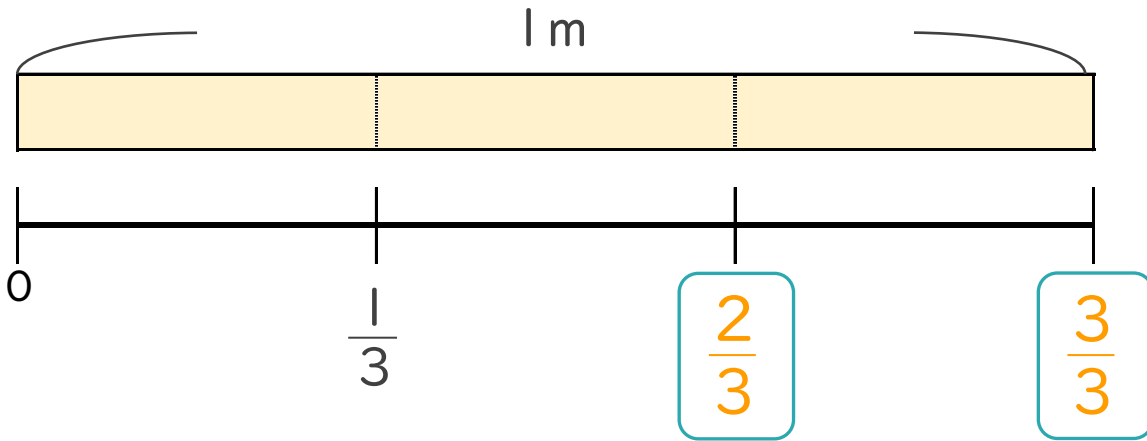
● 1より小さい分数を数直線に表す



日にち： 月 日

名まえ _____

1 次の図を見て答えましょう。(うすい字はなぞりましょう。)



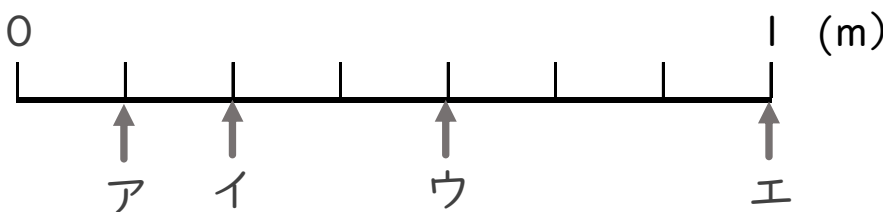
① にあてはまる分数を書きましょう。

② $\frac{1}{3}$ mの3こ分の長さは何mですか。

 m

2 ア～エのめもりが表す長さは、それぞれ何mですか。

(うすい字はなぞりましょう。)



答え ア イ ウ エ

$\frac{1}{7}$ m $\frac{2}{7}$ m $\frac{4}{7}$ m 1 m