



# かけ算の筆算 6

◎ 2けた × 1けた  
(一の位くり上がりあり)



日にち：            月            日

名まえ \_\_\_\_\_

・  $39 \times 2$  を筆算でしましょう。

	3	9
×		2
<hr/>		

くらいをそろえて  
書く。

	3	9
×		2
<hr/>		

$2 \times 9 = 18$   
十のくらの1を  
小さく書く。  
一のくらは8。

	3	9
×		2
<hr/>		

$2 \times 3 = 6$   
十のくらは6と  
小さく書いた1をたす。  
 $6 + 1 = 7$



# かけ算の筆算 6

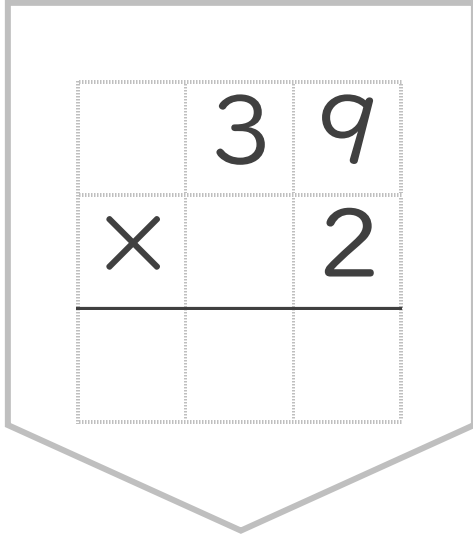
◎ 2けた × 1けた  
(一の位くり上がりあり)



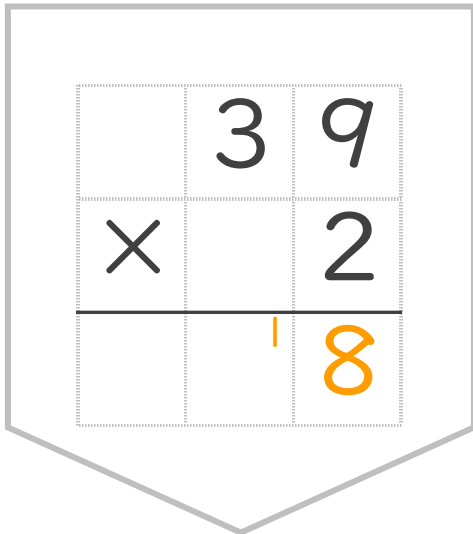
日にち：            月            日

名まえ \_\_\_\_\_

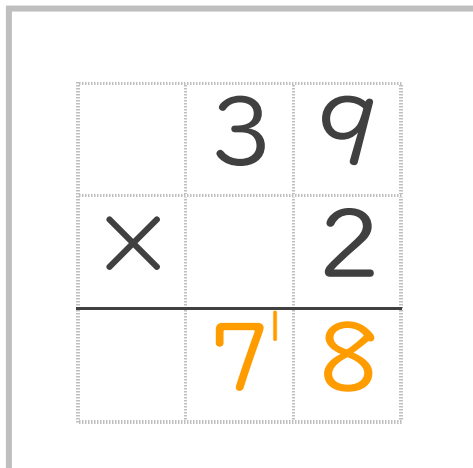
・  $39 \times 2$  を筆算でしましょう。



くらいをそろえて  
書く。



$2 \times 9 = 18$   
十のくらの 1 を  
小さく書く。  
一のくらは 8。



$2 \times 3 = 6$   
十のくらは 6 と  
小さく書いた 1 をたす。  
 $6 + 1 = 7$