



## かけ算の筆算 22

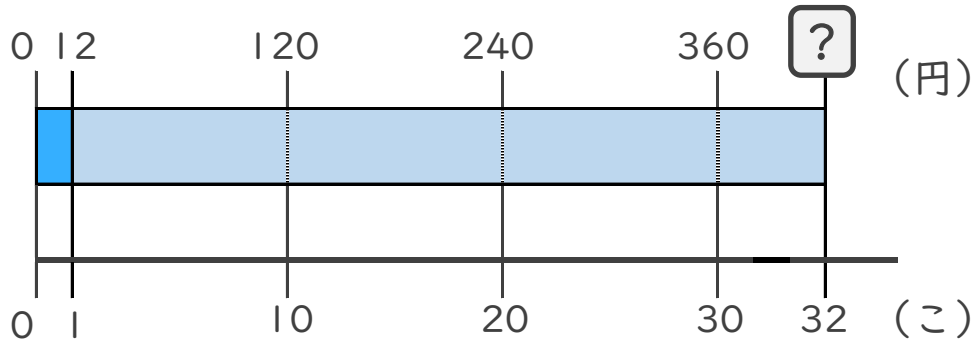
◎ 2けた × 2けたの  
かけ算とは



日にち：            月            日

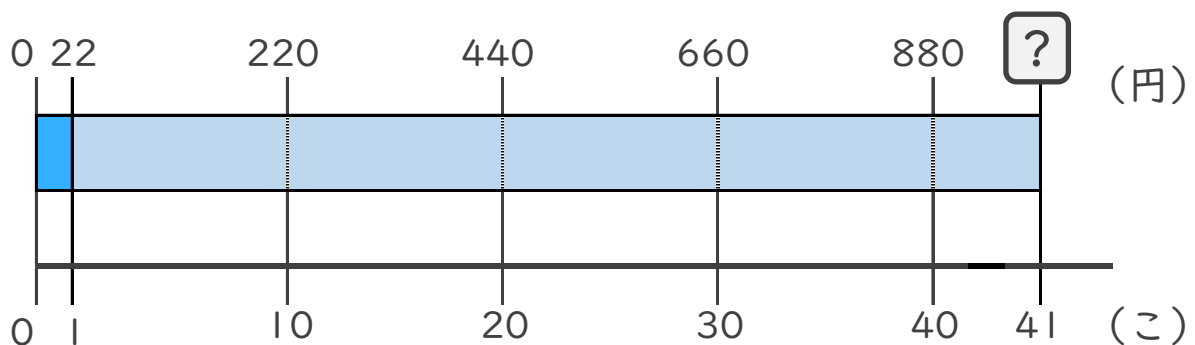
名まえ \_\_\_\_\_

- 1 1こ12円のビー玉を32こ買います。  
代金をもとめる式を作りましょう。



式：  
\_\_\_\_\_

- 2 1こ22円のおかしを41こ買います。  
代金をもとめる式を作りましょう。



式：  
\_\_\_\_\_





## かけ算の筆算 22

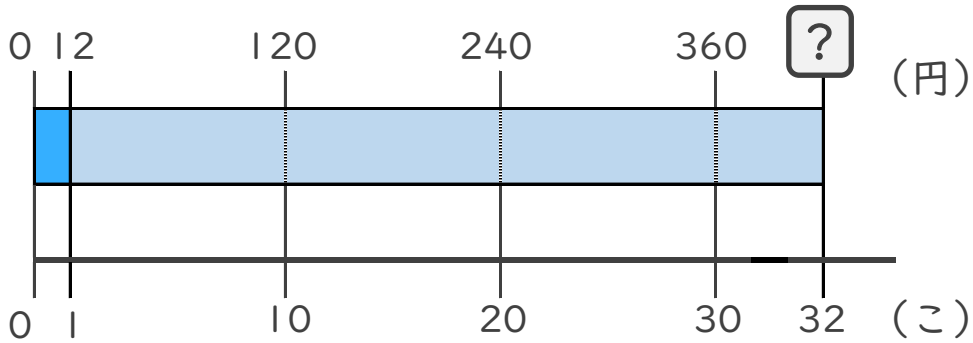
◎ 2けた × 2けたの  
かけ算とは



日にち：          月          日

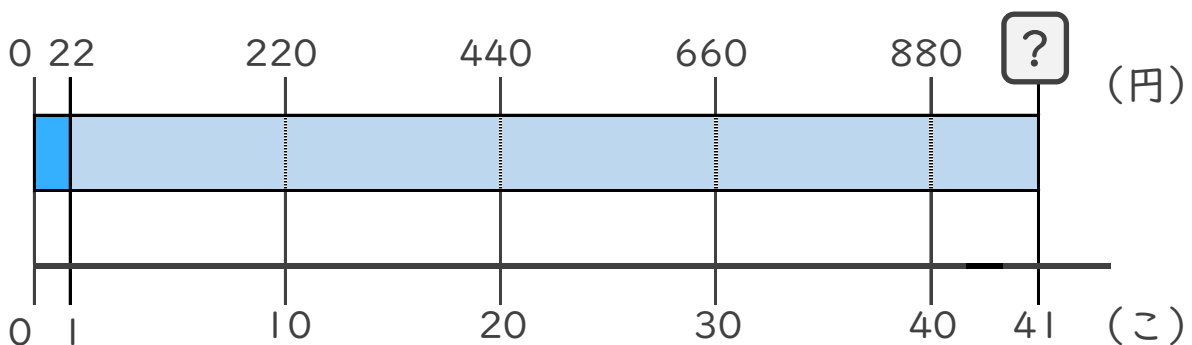
名まえ \_\_\_\_\_

- 1 1こ12円のビー玉を32こ買います。  
代金をもとめる式を作りましょう。



式：12 × 32

- 2 1こ22円のおかしを41こ買います。  
代金をもとめる式を作りましょう。



式：22 × 41

