



# 大きい数のわり算 I

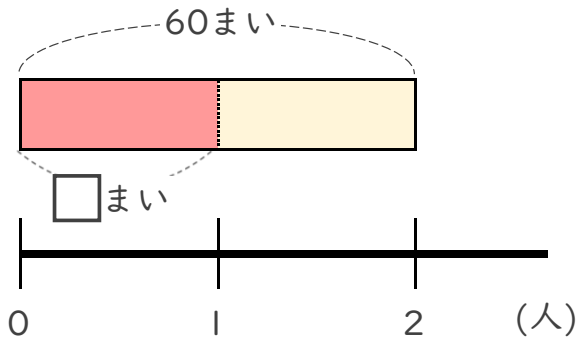
◎ 60まいの色紙を  
3人でわける



日にち： 月 日

名まえ \_\_\_\_\_

- ・ 60まいの色紙を、2人で同じ数ずつ分けます。  
1人分は何まいになりますか。 (うすい字はなぞりましょう。)

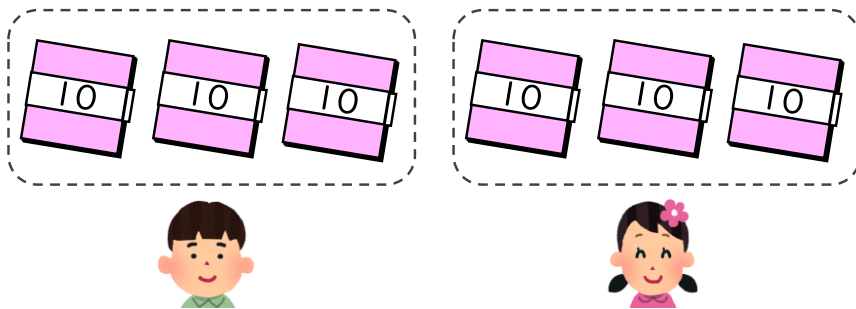


① 計算の式を書きましょう。

全部の まい数	÷	分ける 人数
------------	---	-----------

式  $60 \div 2$

② 下の図をもとに計算してみましょう。



$$6 \div 2 = 3$$

$$60 \div 2 = \boxed{?}$$

全部の まい数	÷	分ける 人数	=	1人分の まい数
------------	---	-----------	---	-------------

式:

答え \_\_\_\_\_



# 大きい数のわり算 I

◎ 60まいの色紙を  
3人でわける

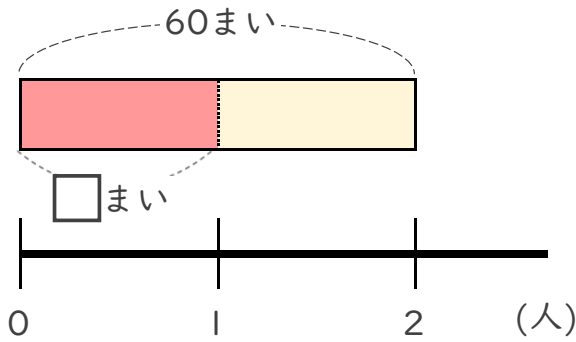


日にち： 月 日

名まえ \_\_\_\_\_

- ・ 60まいの色紙を、2人で同じ数ずつ分けます。  
1人分は何まいになりますか。

(うすい字はなぞりましょう。)

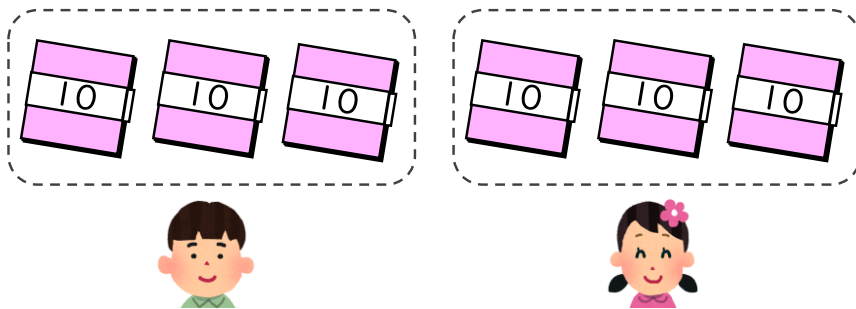


- ① 計算の式を書きましょう。

全部の まい数	÷	分ける 人数
------------	---	-----------

式  $60 \div 2$

- ② 下の図をもとに計算してみましょう。



$$6 \div 2 = 3$$

$$60 \div 2 = \boxed{?}$$

全部の まい数	÷	分ける 人数	=	1人分の まい数
------------	---	-----------	---	-------------

式:  $60 \div 2 = 30$

答え  $30$ まい