




わり算 2

● 1人分の数を求める



日にち： 月 日

名まえ _____

- 1 色紙が18まいあります。
6人で同じ数ずつ分けると、1人分は何まいになりますか。
(うすい字はなぞりましょう。)

式： ÷ =

答え まい

<ヒント>


18÷6の答えは

のだんの九九で見つけられる

$$6 \times 1 = 6$$

$$6 \times 2 = 12$$

$$\star 6 \times \quad = 18$$

- 2 あめが20こあります。
4人で同じ数ずつ分けると、1人分は何こになりますか。
(うすい字はなぞりましょう。)

式： ÷ =

答え

<ヒント>

20÷4の答えは

のだんの九九で見つけられる

$$4 \times 1 = 4$$

$$4 \times 2 = 8$$

$$4 \times 3 = 12$$

$$4 \times \quad = 16$$

$$\star 4 \times \quad = 20$$




わり算 2

● 1人分の数を求める



日にち： 月 日

名まえ _____

- 1 色紙が18まいあります。
6人で同じ数ずつ分けると、1人分は何まいになりますか。
(うすい字はなぞりましょう。)

式: $18 \div 6 = 3$

答え 3まい

<ヒント>


18÷6の答えは

6のだんの九九で見つけられる

$$6 \times 1 = 6$$

$$6 \times 2 = 12$$

$$\star 6 \times 3 = 18$$

- 2 あめが20こあります。
4人で同じ数ずつ分けると、1人分は何こになりますか。
(うすい字はなぞりましょう。)

式: $20 \div 4 = 5$

答え 5こ

<ヒント>

20÷4の答えは

4のだんの九九で見つけられる

$$4 \times 1 = 4$$

$$4 \times 2 = 8$$

$$4 \times 3 = 12$$

$$4 \times 4 = 16$$

$$\star 4 \times 5 = 20$$