



大きい数のしくみ 10

● 1000 万の位の数直線

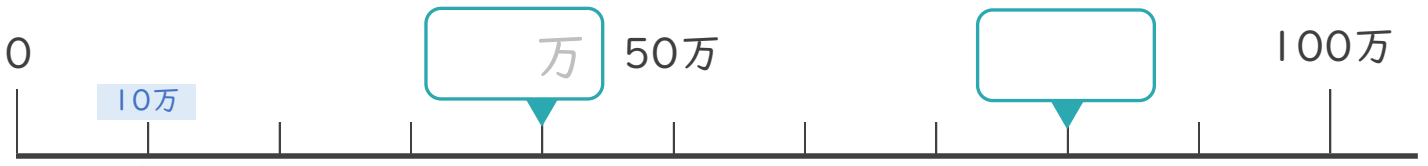


日にち： 月 日

名まえ _____

・ □ にあう数を書きましょう。(うすい字はなぞりましょう。)

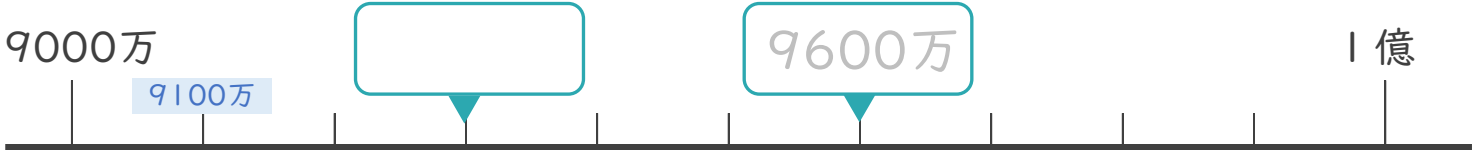
①



10万ずつふえているね!



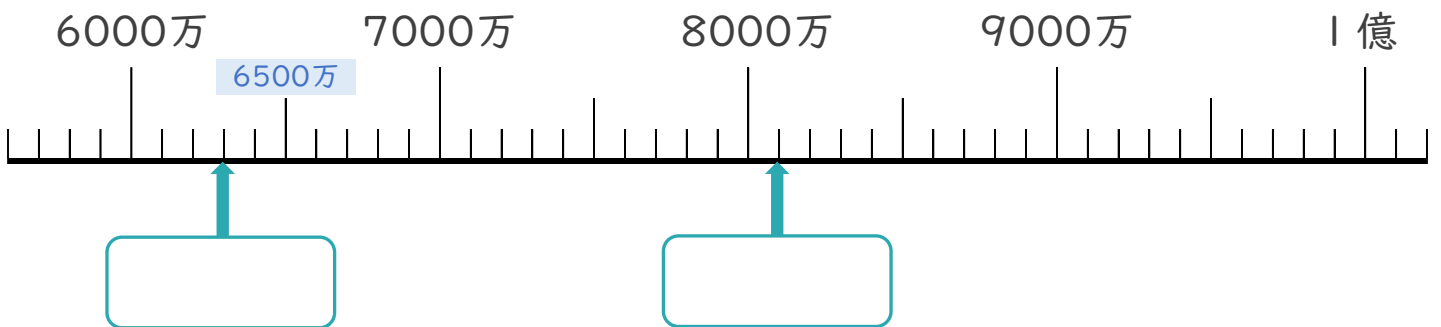
②



100万ずつふえているね!



③





大きい数のしくみ 10

● 1000万の位の数直線



日にち： 月 日

名まえ _____

- にあう数を書きましょう。(うすい字はなぞりましょう。)

①



10万ずつふえているね!



②



100万ずつふえているね!



③

