



### かけ算の筆算 4

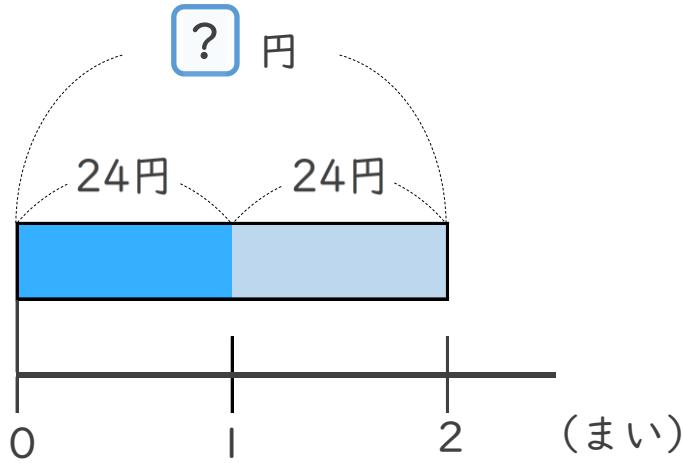
● 32 円のおめを  
3 個買った代金



日にち：            月            日


名まえ \_\_\_\_\_

1 まい24円の色画用紙を、2 まい買います。  
代金はいくらですか。

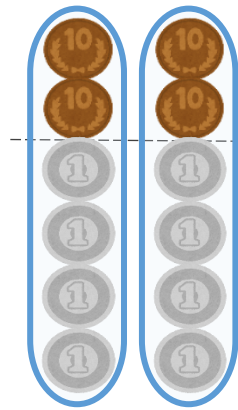


式：

答え： \_\_\_\_\_



ゆうき



$$20 \times 2 = 40$$

$$4 \times 2 = 8$$

あわせて



### かけ算の筆算 4

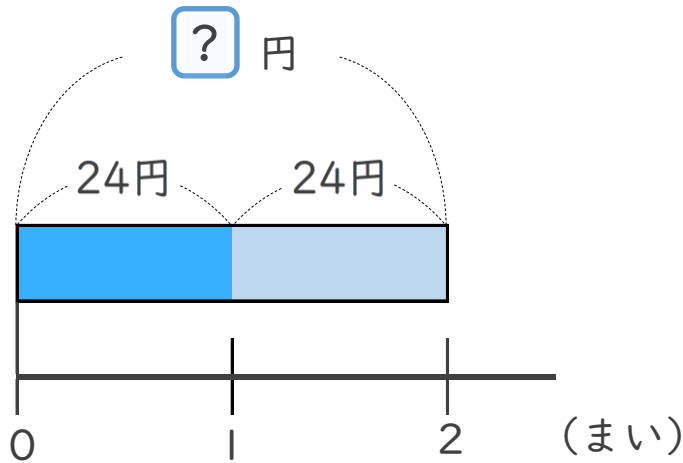
● 32 円のおめを  
3 こ買った代金



日にち：            月            日

名まえ \_\_\_\_\_

1 まい24円の色画用紙を、2 まい買います。  
代金はいくらですか。

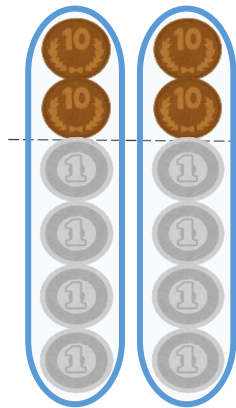


式：  $24 \times 2 = 48$

答え： 48 円



ゆうき



$20 \times 2 = 40$

$4 \times 2 = 8$

あわせて

**48**