



かけ算の筆算 9

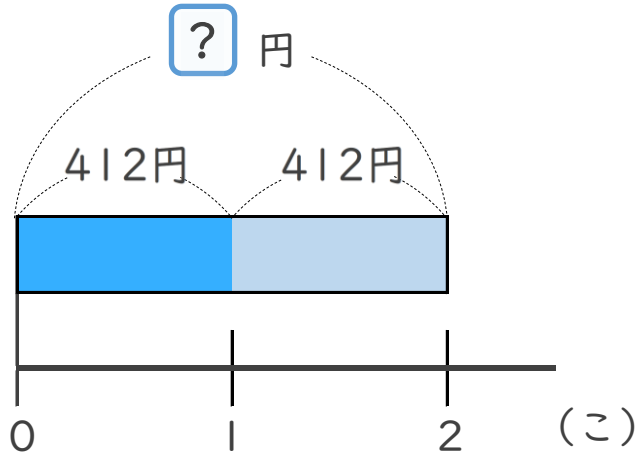
321 円のテープを
3m 買った代金



日にち： 月 日

名まえ _____

1 このねだんが412円のケーキを、2こ買います。
代金はいくらですか。

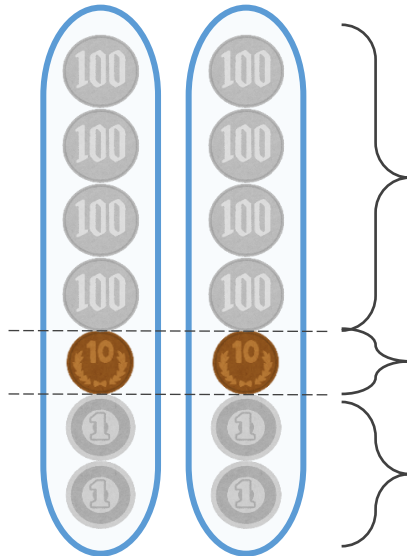


式：

答え： _____



こうた



$$400 \times 2 = 800$$

$$10 \times 2 = 20$$

$$2 \times 2 = 4$$

あわせて





かけ算の筆算 9

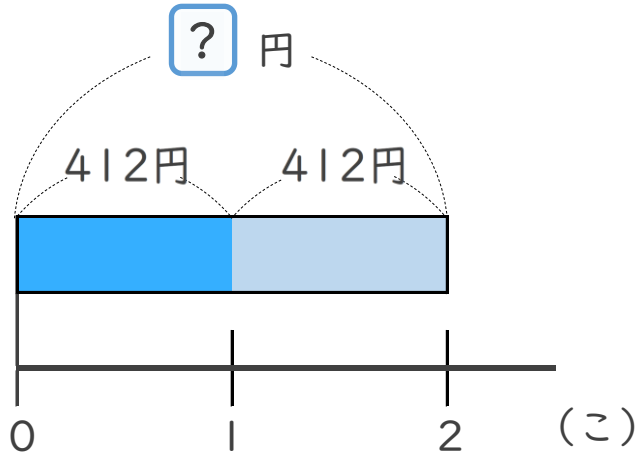
● 321 円のテープを
3m 買った代金



日にち： 月 日

名まえ _____

1 このねだんが412円のケーキを、2こ買います。
代金はいくらですか。

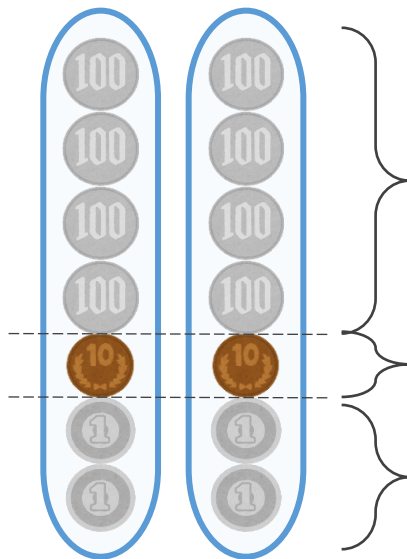


式： $412 \times 2 = 824$

答え： 824 円



こうた



$400 \times 2 = 800$

$10 \times 2 = 20$

$2 \times 2 = 4$

あわせて

824

